

Subject Code

20362-MYWLN-PRV-XFYX-E

46

SET

A

Question
Booklet No.

परीक्षा केन्द्राध्यक्ष की मोहर
Seal of Superintendent of Examination Centre

परीक्षार्थी द्वारा बॉल-प्वाइण्ट पेन से भरा जाए उत्तर शीट का क्रमांक
To Be filled in by Candidate by Ball-Point pen only Sl. No. of Answer-Sheet

अनुक्रमांक

Roll No.

घोषणा : मैंने नीचे दिये गये निर्देश अच्छी तरह पढ़कर समझ लिए हैं।

Declaration : I have read and understood the instructions given below.

वीक्षक के हस्ताक्षर

(Signature of Invigilator) -----

वीक्षक के नाम

(Name of Invigilator) -----

अभ्यर्थी के हस्ताक्षर

(Signature of Candidate) -----

अभ्यर्थी का नाम

(Name of Candidate) -----

पूर्णांक - 100

समय - 2 घंटे

प्रश्न पुस्तिका में पृष्ठों की संख्या

Number of Pages in this Question Booklet : 32

प्रश्न पुस्तिका में प्रश्नों की संख्या

Number of Questions in this Question Booklet : 100

अभ्यर्थियों के लिए निर्देश

1. प्रश्न-पुस्तिका मिलते ही मुख पृष्ठ एवं अंतिम पृष्ठ में दिए गए निर्देशों को अच्छी तरह पढ़ लें। प्रश्न पुस्तिका में लगी सील को वीक्षक के कहने से पूर्व न खोलें।
2. ऊपर दिए हुए निर्धारित स्थानों में अपना अनुक्रमांक, उत्तर-पुस्तिका का क्रमांक लिखें तथा अपने हस्ताक्षर करें।
3. ओ.एम.आर. उत्तर-शीट में समस्त प्रविष्टियां दिये गये निर्देशानुसार करें अन्यथा उत्तर-शीट का मूल्यांकन नहीं किया जाएगा।
4. सील खोलने के बाद सुनिश्चित कर लें कि प्रश्न-पुस्तिका में कुल पृष्ठ ऊपर लिखे अनुसार दिए हुए हैं तथा उसमें सभी 100 प्रश्नों का मुद्रण सही है। किसी भी प्रकार की त्रुटि होने पर 15 मिनट के अंदर वीक्षक को सूचित कर सही प्रश्न-पुस्तिका प्राप्त करें।
5. प्रत्येक प्रश्न हेतु प्रश्न-पुस्तिका में प्रश्न के नीचे दिए गए चार विकल्पों में से सही/सबसे उपयुक्त केवल एक ही विकल्प का चयन कर उत्तर शीट में सही विकल्प वाले गोले को जो उस प्रश्न के सरल क्रमांक से सम्बंधित हो काले या नीले बॉल-प्वाइण्ट पेन से भरें।
6. सही उत्तर वाले गोले को अच्छी तरह से भरें, अन्यथा उत्तरों का मूल्यांकन नहीं होगा।
7. प्रश्न-पुस्तिका में 100 वस्तुनिष्ठ प्रश्न दिए गए हैं। प्रत्येक प्रश्न के लिए 01 अंक निर्धारित हैं। सभी प्रश्न अनिवार्य हैं।
8. ऋणात्मक मूल्यांकन नहीं किया जावेगा।
9. प्रश्न-पुस्तिका तथा उत्तर-शीट में निर्दिष्ट स्थानों पर प्रविष्टियां भरने के अतिरिक्त कहीं भी कुछ न लिखें।
10. परीक्षा समाप्ति के उपरान्त तथा कक्ष छोड़ने के पूर्व मूल उत्तरशीट वीक्षक को सौंपी जाए। प्रश्न पुस्तिका एवं उत्तर-शीट की कार्बन कॉपी परीक्षार्थी अपने साथ ले जा सकते हैं।
11. इस प्रश्न पत्र में पाँच भाग होंगे :-

भाग	विवरण	प्रश्नों की संख्या	अंक
I	सामान्य मानसिक योग्यता	30	30
II	सामान्य ज्ञान	20	20
III	शिक्षण अभिरुचि	30	30
IV	सामान्य हिन्दी	10	10
V	सामान्य अंग्रेजी	10	10

12. सभी प्रश्न करने अनिवार्य हैं।
13. यदि हिन्दी भाषा / अंग्रेजी भाषा में कोई संदेह है तो अंग्रेजी भाषा को ही प्रामाणिक माना जायेगा।

INSTRUCTION TO CANDIDATES

1. Immediately after getting the booklet read instructions carefully, mentioned on the front and back page of the question booklet and do not open the seal given on the question booklet, unless asked by the invigilator.
2. Write your Roll No., Answer Sheet No., in the specified places given above and do your signature.
3. Make all entries in the OMR Answer Sheet as per the given instructions otherwise Answer-Sheet will not be evaluated.
4. After Opening the seal, ensure that the Question booklet contains total no. of pages as mentioned above and printing of all the 100 questions is proper. If any discrepancy is found, inform the invigilator within 15 minutes and get the correct booklet.
5. While answering the question from the question Booklet, for each question choose the correct/most appropriate option out of four options given, as answer and darken the circle provided against that option in the OMR Answer sheet, bearing the same serial number of the question. Darken the circle only with Black or Blue ball point pen.
6. Darken the circle of choose option fully, otherwise answers will not be evaluated.
7. There are 100 objective type questions in this question booklet. All questions are compulsory and carry 01 mark each.
8. No negative marking will be done.
9. Do not write anything anywhere in the question booklet or on the answer-sheet except making entries in the specified places.
10. When the examination is over, original OMR answer sheet is to be handed over to the invigilator before leaving the examination hall, while question booklet and carbon copy of the answer-sheet can be retained by the candidate.
11. This question paper consists of five parts namely :-

Part	Particular	No. of Ques.	Marks
I	General Mental Eligibility	30	30
II	General Knowledge	20	20
III	Educational Interest	30	30
IV	General Hindi	10	10
V	General English	10	10

12. All questions are compulsory.
13. In case of any ambiguity in Hindi version / English version the English version shall be considered authentic.

20362-MYWLN-PRV-XFYX-E

46 Set A



Online Student Seva

ONLINE STUDENT SEVA

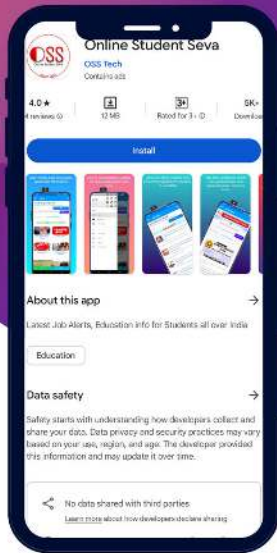
A good option to get
education and exam
related information on
time



Join WhatsApp group

**Message on
78800 35336
to join group**





**DOWNLOAD
THE APP** 



ONLINE STUDENT SEVA

A great app for information related to education and jobs, which will provide you information from time to time.



FIND A JOBS RECRUITMENT

ऑनलाइन स्टूडेंट सेवा एप में आप आसानी से किसी सरकारी नौकरी, भर्ती तथा परीक्षाओं से संबंधित सारी जानकारियां आसानी से ढूँढ सकते हैं।



HELP

किसी भी प्रकार की कोई समस्या जैसे शिक्षा से संबंधित कोई जानकारी चाहिए तो आप हमारे एप में जाकर सर्चिंस एजेंट से मदद ले सकते हैं।



ONLINE FORM

Online Form भरने में किसी को समस्या आती है तो वो हमारे Agent से संपर्क करके घर बैठे किसी भी किसी भी Exam तथा Admission आदि से संबंधित फॉर्म भर सकते हैं।



25
Posts

26.7K
Followers

5
Following

ONLINE STUDENT SEVA

Educational Consultant

Online Student Seva में आपका स्वागत है 🙏

सरकारी नौकरी एवं भर्ती, स्कूल, कॉलेज, व्यापम एवं लोक सेवा आयोग आदि से संबंधित जानकारी प्राप्त करें ।।

[🔗 onlinestudentseva.com/](https://onlinestudentseva.com/)

**सरकारी नौकरी एवं भर्ती, स्कूल, कॉलेज
तथा परीक्षा संबंधित आदि जानकारी प्राप्त
करने के लिए आज ही फॉलो करें।**

Follow @online.student.seva

SPACE FOR ROUGH WORK / रफ कार्य के लिये जगह

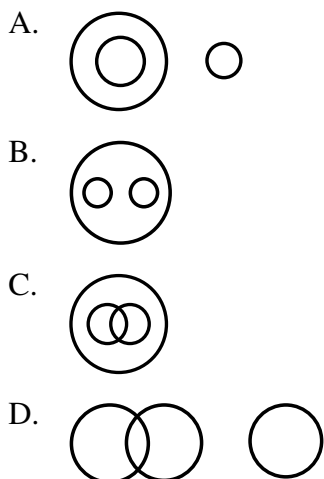
SPACE FOR ROUGH WORK / रफ कार्य के लिये जगह



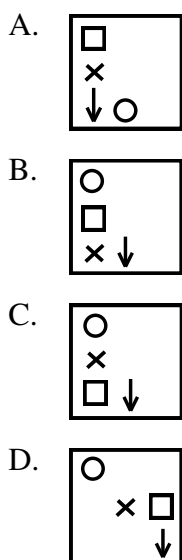
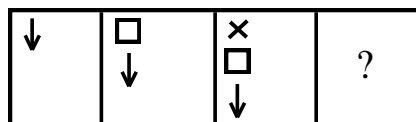
PART - I

General Mental Eligibility

1. Select the diagram which correctly illustrates the relationship between wheat, maize and grains.

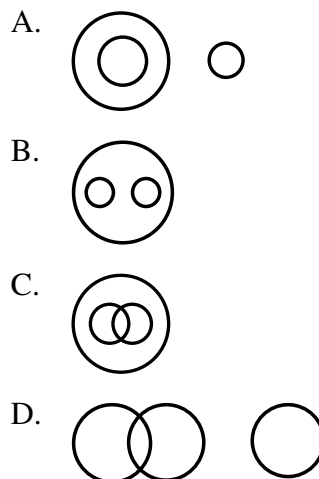


2. Which of the following figure will follow the series?

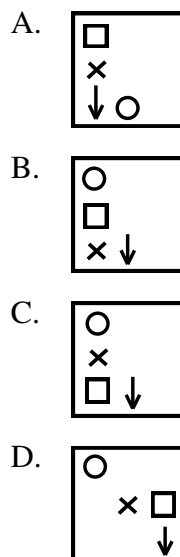
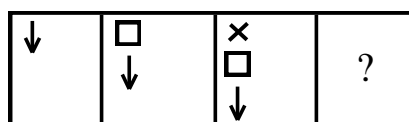


सामान्य मानसिक योग्यता

1. उस आरेख का चयन करें जो गेहूं, मक्का और अनाज के बीच संबंध को सही ढंग से दर्शाता है।

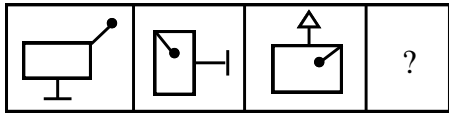


2. निम्नलिखित में से कौन सी आकृति श्रृंखला का अनुसरण करेगा?



SPACE FOR ROUGH WORK / रफ कार्य के लिये जगह

3. Select a suitable figure from the answer figures that would replace the question mark (?)



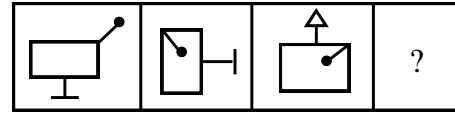
- A.
- B.
- C.
- D.

4. Find the missing pair in the series.

EQ, FS, HW, KA, ----- TL

- A. OF
- B. OB
- C. AL
- D. AM

3. उत्तर आकृतियों में से उपयुक्त आकृति का चयन करें जो प्रश्न चिन्ह (?) को प्रतिस्थापित करेगा।



- A.
- B.
- C.
- D.

4. श्रृंखला में लुप्त पद को ज्ञात करें।

EQ, FS, HW, KA, ----- TL

- A. OF
- B. OB
- C. AL
- D. AM

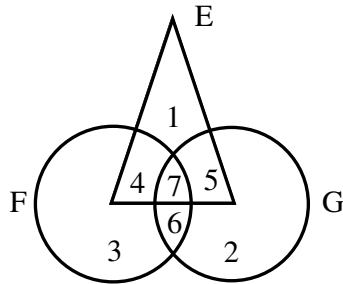
SPACE FOR ROUGH WORK / रफ कार्य के लिये जगह

5. Which number indicates the owners who are neither engineers nor good administrators

F = Good Administrators

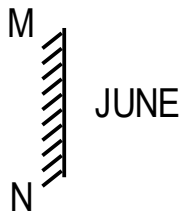
E = Engineers

G = Owners



- A. 4
B. 6
C. 2
D. 7

6. If a mirror is placed on the line MN, then which of the word is the right image of the given word?



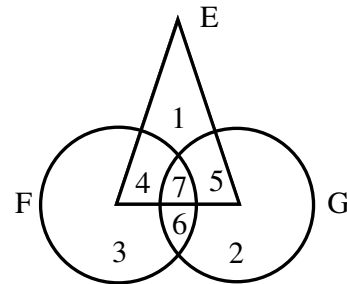
- A. ENUL
B. ENUJ
C. ENUL
D. ENUJ

5. कौन सी संख्या उन मालिकों को इंगित करता है जो न इंजिनियर है न ही अच्छे प्रशासक

F = अच्छे प्रशासक

E = इंजीनियर

G = मालिक



- A. 4
B. 6
C. 2
D. 7

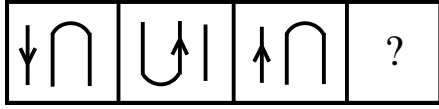
6. यदि MN रेखा पर एक दर्पण रखा जाए, तो दिए गये शब्द में से कौन सा शब्द दिए गए शब्द का सही प्रतिबिम्ब है?



- A. ENUL
B. ENUJ
C. ENUL
D. ENUJ

SPACE FOR ROUGH WORK / रफ कार्य के लिये जगह

7. Select a suitable figure from the answer figures that would replace the question mark[?] from the question figure.



- A.
- B.
- C.
- D.

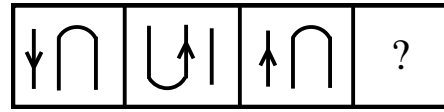
8. If republic day in any year happens to be on Thursday, which day will be independence day?
- A. Thursday
- B. Sunday
- C. Tuesday
- D. Can't be known

9. Choose the figure which is different from others.



- (a) (b) (c) (d)
- A. (a)
- B. (b)
- C. (c)
- D. (d)

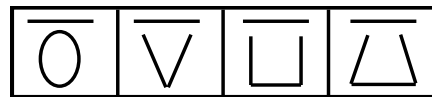
7. उत्तर आकृतियों में से उपयुक्त आकृति का चयन करें जो प्रश्न आकृति के प्रश्न चिन्ह को प्रतिस्थापित करेगा?



- A.
- B.
- C.
- D.

8. यदि किसी वर्ष गणतंत्र दिवस गुरुवार को मनाया तो स्वतंत्रता दिवस किस दिन मनाया जाएगा?
- A. गुरुवार
- B. रविवार
- C. मंगलवार
- D. ज्ञात नहीं किया जा सकता

9. वह आकृति को चुनें जो अन्य से भिन्न है।



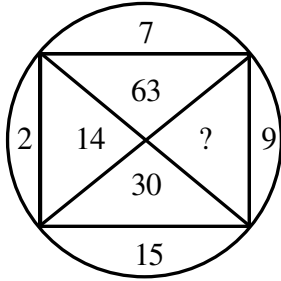
- (a) (b) (c) (d)
- A. (a)
- B. (b)
- C. (c)
- D. (d)

SPACE FOR ROUGH WORK / रफ कार्य के लिये जगह

10. If $2^3 \div 4 = 2, 4^4 \div 8 = 32$, then what will be the value of $6^2 \div 4$?
- A. 9 B. 10
C. 8 D. 12

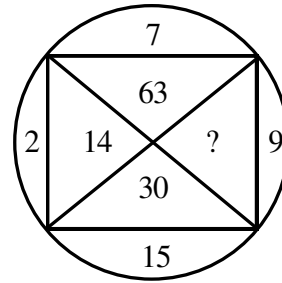
10. अगर $2^3 \div 4 = 2, 4^4 \div 8 = 32$ हैं, तो $6^2 \div 4$ का मूल्य क्या होगा?
- A. 9 B. 10
C. 8 D. 12

11. Find the missing number.



- A. 33 B. 145
C. 135 D. 18

11. लुप्त संख्या को ज्ञात कीजिए।



- A. 33 B. 145
C. 135 D. 18

12. In a certain code, ARMY is written as ASOB. How is JUDGE written in that code?
- A. KVEHF B. JVFJI
C. ITCFD D. JWGKJ

12. एक निश्चित कोड में, ARMY को ASOB लिखा जाता है। JUDGE को उस कोड में कैसे लिखा जाएगा?
- A. KVEHF B. JVFJI
C. ITCFD D. JWGKJ

13. Which word does not belong to others?
- A. Lion B. Elephant
C. Leopard D. Tiger

13. कौन सा शब्द दूसरों से संबंधित नहीं है?
- A. शेर B. हाथी
C. चीता D. बाघ

14. If HOT is coded as GNS, how is COLD coded?
- A. BNKC
B. DPME
C. EQNF
D. FROG

14. अगर HOT को GNS के रूप में कोड करते हैं, तो COLD को कैसे कोड किया जाएगा?
- A. BNKC
B. DPME
C. EQNF
D. FROG

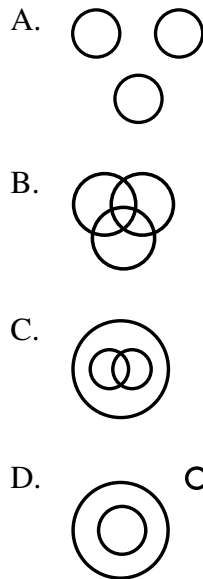
SPACE FOR ROUGH WORK / रफ कार्य के लिये जगह

15. Select the correct combination of mathematical signs to replace the * signs and to balance the given equation

$$40 * 2 * 4 * 3 * 8$$

- A. $+ - \div =$
 B. $\div + = \times$
 C. $+ \div \times =$
 D. $+ \times - =$

16. The relation between triangle, quadrilateral and square can be best illustrated by which of the following diagram?

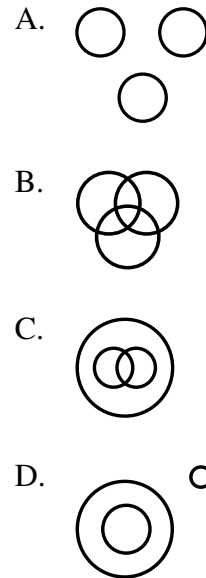


15. दिए गए समीकरण को संतुलित करने और * चिन्हों को प्रतिस्थापित करने के लिए गणितीय संकेतों के सही संयोजन का चयन करें।

$$40 * 2 * 4 * 3 * 8$$

- A. $+ - \div =$
 B. $\div + = \times$
 C. $+ \div \times =$
 D. $+ \times - =$

16. निम्नलिखित में से किस आरेख द्वारा त्रिभुज, चतुर्भुज और वर्ग के बीच संबंध को सबसे अच्छा चित्रित किया जा सकता है?



SPACE FOR ROUGH WORK / रफ कार्य के लिये जगह

17. In the English alphabet, find the position of L from left.

- A. 12
- B. 16
- C. 11
- D. 15

18. If S means '−', Q means '×' R means '÷' and P means '+' then

$$1P 45 R 2 Q 2 S4=?$$

- A. 40
- B. 42
- C. 36
- D. 46

19. If $879 = 9$, $625 = 1$ and $586 = 9$, then $785 = ?$

- A. 6
- B. 7
- C. 8
- D. 9

20. Find the missing letters in the series BKK, DMM, FOO, -----, JSS

- A. HLL
- B. HBB
- C. HTT
- D. HQQ

17. अंग्रेजी वर्णमाला में बाईं ओर से L का स्थान ज्ञात कीजिए।

- A. 12
- B. 16
- C. 11
- D. 15

18. यदि S का अर्थ '−' है, Q का अर्थ '×', R का अर्थ '÷' और P का अर्थ '+', तो

$$1P 45 R 2 Q 2 S4=?$$

- A. 40
- B. 42
- C. 36
- D. 46

19. अगर $879 = 9$, $625 = 1$ तथा $586 = 9$ हैं, तो $785 = ?$

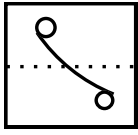
- A. 6
- B. 7
- C. 8
- D. 9

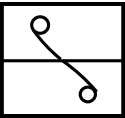
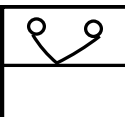
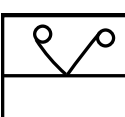

20. श्रृंखला BKK, DMM, FOO, -----, JSS के लुप्त अक्षरों को ज्ञात कीजिए।

- A. HLL
- B. HBB
- C. HTT
- D. HQQ

SPACE FOR ROUGH WORK / रफ कार्य के लिये जगह

21. How would the pattern appear when the transparent sheet is folded at the dotted line?



- A. 
- B. 
- C. 
- D. 

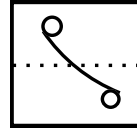
22. What will it look like when you look in the mirror at 11:45?

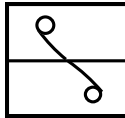
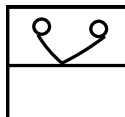
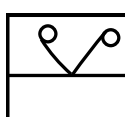

- A. 11 : 45 B. 12 : 15
C. 12 : 45 D. 10 : 45

23. Which of the given responses would be in a meaningful order of the following in ascending order?

- a) 0645 hrs
b) 1930 hrs
c) 1335 hrs
d) 2000 hrs
- A. d, b, c, a B. a, d, c, b
C. a, b, c, d D. a, c, b, d

21. बिंदीदार रेखा पर पारदर्शी शीट को मोड़ने पर कैसा पैटर्न दिखाई देगा?



- A. 
- B. 
- C. 
- D. 

22. 11 बजकर 45 मि. को दर्पण में देखने पर क्या बजेगा?

- A. 11 बजकर 45 मि. B. 12 बजकर 15 मि.
C. 12 बजकर 45 मि. D. 10 बजकर 45 मि.

23. दी गई प्रतिक्रियाओं में से कौन सा आरोही क्रम में अर्थपूर्ण क्रम होगा?

- a) 0645 बजे
b) 1930 बजे
c) 1335 बजे
d) 2000 बजे
- A. d, b, c, a B. a, d, c, b
C. a, b, c, d D. a, c, b, d

SPACE FOR ROUGH WORK / रफ कार्य के लिये जगह

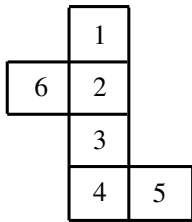
24. Deepak placed his watch on the table in such a way that at 6 pm, the hour hand points to the South. In which direction, the minute hand will point at 9 pm?

- A. NORTH
- B. WEST
- C. SOUTH
- D. EAST

25. U is the son of V X is Y's mother and wife of U. What is the relation between V and X?

- A. Sister
- B. Father-in-law
- C. Aunt
- D. Insufficient data

26. If the given figure is folded to make a cube, then what will be the number on the opposite surface of number 6?



- A. 2
- B. 4
- C. 6
- D. 5

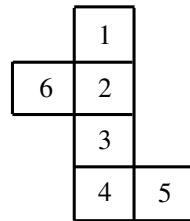
24. दीपक ने अपनी घड़ी मेज पर इस प्रकार रखी कि शाम 6 बजे घंटे की सुई दक्षिण दिशा की ओर हो, तो रात 9 बजे मिनट की सुई किस दिशा में होगी?

- A. उत्तर
- B. पश्चिम
- C. दक्षिण
- D. पूर्व

25. U, V का पुत्र है X, Y की माता और U की पत्नी है। V और X का क्या संबंध है?

- A. बहन
- B. ससुर
- C. चाची
- D. अपर्याप्त डेटा

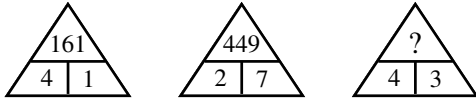
26. यदि दिए गए चित्र को मोड़कर घन बनाया जाए, तो 6 अंक के विपरीत सतह पर कितने अंक वाला सतह आयेगा?



- A. 2
- B. 4
- C. 6
- D. 5

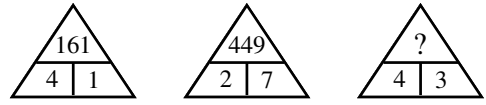
SPACE FOR ROUGH WORK / रफ कार्य के लिये जगह

27. Which of the following will replace the question mark?



- A. 823
- B. 169
- C. 412
- D. 256

27. निम्नलिखित में प्रश्नचिन्ह को किससे प्रतिस्थापित किया जाएगा?



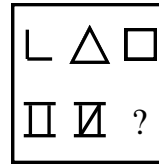
- A. 823
- B. 169
- C. 412
- D. 256

28. Select a suitable figure from the four alternatives that would complete the figure matrix.



- A.
- B.
- C.
- D.

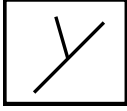
28. चार विकल्पों में से एक उपयुक्त आकृति का चयन करें जो आकृति मैट्रिक्स को पूरा करें।



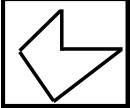



- A.
- B.
- C.
- D.

SPACE FOR ROUGH WORK / रफ कार्य के लिये जगह

29. Select the answer figure in which the question figure is hidden?

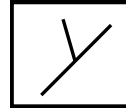




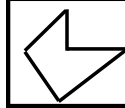
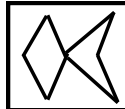
- A. 
- B. 
- C. 
- D. 

30. If North-East becomes North and North-West becomes the West. What will the East become?

- A. North-East
B. North-West
C. South-East
D. South-West

29. उस उत्तर आकृति का चयन करें जिसमें प्रश्न आकृति छिपी हुई है?



- A. 
- B. 
- C. 
- D. 

30. यदि उत्तर-पूर्व उत्तर हो जाए और उत्तर-पश्चिम पश्चिम हो जाए, तो पूर्व क्या हो जाएगा?

- A. उत्तर-पूर्व
B. उत्तर-पश्चिम
C. दक्षिण-पूर्व
D. दक्षिण-पश्चिम

SPACE FOR ROUGH WORK / रफ कार्य के लिये जगह

PART - II

General Knowledge

सामान्य ज्ञान

31. The remains of the Harappan Civilization were not found at the following places-
- Mohenjodaro
 - Harappa
 - Lothal
 - Ujjayini
32. Where does Andaman and Nicobar Islands lie?
- Bay of Bengal
 - Arabian sea
 - Indian Ocean
 - None of the above
33. What is correct about 'Fundamental Right to Education'?
- Previously it was the duty of states.
 - It was provided in the article 45 of the Constitution.
 - By 86th amendment it was recognised as Fundamental Right.
 - It is provided in article 31A of the Constitution.
- (i)
 - (i) (ii)
 - (i) (ii) (iii)
 - (i) (ii) (iii) (iv)
34. Type of vegetation found in *Sunderban* is:
- Tropical evergreen
 - Tropical deciduous
 - Montane - temperate
 - Mangrove (tidal)
31. हड़प्पा सभ्यता के अवशेष निम्नलिखित स्थान पर प्राप्त नहीं हुए-
- मोहनजोदड़ो
 - हड़प्पा
 - लोथल
 - उज्जयिनी
32. अण्डमान एवं निकोबार द्वीप समूह कहाँ स्थित हैं?
- बंगाल की खाड़ी
 - अरब सागर
 - हिन्द महासागर
 - उपरोक्त में से कोई नहीं
33. 'शिक्षा का मौलिक अधिकार' विषय में क्या सही है?
- पहले यह राज्य का दायित्व था।
 - यह संविधान के अनुच्छेद 45 में प्रावधानित था।
 - 86 वें संशोधन के द्वारा इसे मौलिक अधिकार की मान्यता दी गई।
 - यह संविधान के अनुच्छेद 31A में प्रावधानित है।
- (i)
 - (i) (ii)
 - (i) (ii) (iii)
 - (i) (ii) (iii) (iv)
34. सुन्दरबन में किस प्रकार की वनस्पति पाई जाती है?
- उष्णकटिबंधीय सदाबहार
 - उष्णकटिबंधीय पतझड़
 - पर्वतीय - शीतोष्ण
 - मैंग्रोव (ज्वारीय)

SPACE FOR ROUGH WORK / रफ कार्य के लिये जगह

35. Insulin was discovered by-

- A. Laennec
- B. Banting and Best
- C. Jenner
- D. Waksman

36. A teacher finds out the subject related difficulties of the children in the class. He plans the next lesson to overcome these difficulties.

What he will be doing among the following?

- A. Assessment of learning
- B. Assessment for learning
- C. Assessment as learning
- D. Assessment for ranking the student

37. Which of the following pair is not correctly matched?

- A. James Watt – Steam Engine
- B. Alexander Graham Bell – Telephone
- C. J. L. Baird – Television
- D. J Perkins – Penicillin

38. Which *Asana* is helpful in maintaining normal blood pressure?

- A. *Shavasana*
- B. *Padmaasana*
- C. *Shalabhasana*
- D. *Vakraasana*

35. इन्सुलिन की खोज किसने की?

- A. लाइनकने
- B. बैंटिंग व बेस्ट ने
- C. जेनर ने
- D. वाक्समैन ने

36. एक शिक्षक कक्षा में बच्चों की विषय संबंधी कठिनाइयों का पता लगाता है। इन कठिनाइयों को दूर करने के लिए अगली पाठयोजना बनाता है। वह निम्नलिखित में से क्या कर रहा है?

- A. सीखने का आकलन
- B. सीखने के लिए आकलन
- C. सीखने के रूप में आकलन
- D. विद्यार्थी को श्रेणी प्रदान करने के लिए आकलन

37. निम्नलिखित में से कौन सा युग्म सुमेलित नहीं है?

- A. जेम्स वाट – वाष्प इंजन
- B. एलेक्जेंडर ग्राहम बेल – टेलिफोन
- C. जे. एल. बेयर्ड – टेलीविजन
- D. जे. परकिन्स – पेनिसिलीन

38. कौन सा आसन रक्त दाब को सामान्य बनाए रखने में सहायक होता है?

- A. शवासन
- B. पद्मासन
- C. शलभासन
- D. वक्रासन

SPACE FOR ROUGH WORK / रफ कार्य के लिये जगह

39. According to Chhattisgarh Economic Survey 2022-23 based on the prevailing price of Net Domestic Product, Advance Estimates of State's Per Capita Income is-
- A. 1,33,898/-
B. 1,70,620/-
C. 1,35,330/-
D. 1,40,898/-
40. Uber Cup is associated with which sports?
- A. Cricket
B. Golf
C. Badminton
D. Hockey
41. A total number of students enrolled in a school from Class I to Class V are 60. How many teachers will be required in this school under Right to Education Act 2009?
- A. 05
B. 04
C. 03
D. 02
42. What is correct?
- i) Both houses of State Legislature assemble together.
ii) Both houses of State Legislature can consider on any matter.
- A. (i) is correct
B. (ii) is correct
C. (i) & (ii) both are correct
D. (i) & (ii) both are wrong
39. छत्तीसगढ़ आर्थिक समीक्षा 2022-23 निवल राज्य घरेलू उत्पाद के प्रचलित भाव के आधार पर राज्य के प्रति व्यक्ति आय के अग्रिम अनुमान निम्न है-
- A. 1,33,898/-
B. 1,70,620/-
C. 1,35,330/-
D. 1,40,898/-
40. उबेर कप किस खेल से संबंधित हैं?
- A. क्रिकेट
B. गोल्फ
C. बैडमिंटन
D. हॉकी
41. एक विद्यालय में कक्षा 1 – 5 तक में कुल 60 विद्यार्थी नामांकित हैं। इस विद्यालय में शिक्षा के अधिकार अधिनियम 2009 में कितने शिक्षकों की आवश्यकता होगी?
- A. 05
B. 04
C. 03
D. 02
42. सही क्या है?
- i) राज्य विधानमण्डल के दोनों सदन एक साथ बैठते हैं।
ii) राज्य विधानमण्डल के दोनों सदन किसी विषय पर विचार कर सकते हैं।
- A. (i) सही है
B. (ii) सही है
C. (i) और (ii) दोनों सही है
D. (i) और (ii) दोनों गलत है

SPACE FOR ROUGH WORK / रफ कार्य के लिये जगह

43. Which of the following document focuses on constructivist approach to learning?
- National Education Policy 1986
 - National Curriculum Framework 2000
 - National Curriculum Framework 2005
 - National Education Policy – 1968

44. Match the following List-I with List-II and answer the following question.

List-I	List-II
<u>Discoverer</u>	<u>Discovery</u>
p. Jenner	1. Blood Group
q. Watson	2. Penicillin
r. Landsteiner	3. Vaccine
s. Fleming	4. Double Helix Model

Code-

- p-3, q-1, r-2, s-4
 - p-3, q-4, r-2, s-1
 - p-3, q-4, r-1, s-2
 - p-3, q-2, r-4, s-1
45. In which State, mineral - Lithium deposits has been found recently?
- Madhya Pradesh
 - Chhattisgarh
 - Jammu & Kashmir
 - Rajasthan

43. निम्नलिखित में से कौन सा दस्तावेज अधिगम के रचनावादी दृष्टिकोण पर केन्द्रित हैं?

- राष्ट्रीय शिक्षा नीति 1986
- राष्ट्रीय पाठ्यचर्या की रूपरेखा 2000
- राष्ट्रीय पाठ्यचर्या की रूपरेखा 2005
- राष्ट्रीय शिक्षा नीति 1968

44. सूची-I तथा सूची-II को सुमेलित कीजिए तथा नीचे दिए गये कूट से सही उत्तर चुनिये-

सूची-I	सूची-II
<u>खोजकर्ता</u>	<u>खोज</u>
p. जेनर	1. रूधिर वर्ग
q. वाटसन	2. पेनिसिलीन
r. लैंडस्टीनर	3. टीकाकरण
s. फ्लेमिंग	4. द्विकुण्डली

कूट-

- p-3, q-1, r-2, s-4
 - p-3, q-4, r-2, s-1
 - p-3, q-4, r-1, s-2
 - p-3, q-2, r-4, s-1
45. हाल ही में लीथियम खनिज के भण्डार किस राज्य में खोजे गये हैं?
- मध्य प्रदेश
 - छत्तीसगढ़
 - जम्मू-कश्मीर
 - राजस्थान

SPACE FOR ROUGH WORK / रफ कार्य के लिये जगह

46. The *Rigveda* describes the following regions of India-

A. Satpura mountains
B. Sindh
C. Punjab
D. Sapt Sindhu Pradesh

47. '*Vasudhaiva Kutumbakam*' is related to-

A. *Katha Upanishad*
B. *Chhandogya Upanishad*
C. *Maha Upanishad*
D. *Shrimad Bhagwatgita*

48. Birth place of Gautam Buddha-

A. Vaishali
B. Kapilvastu
C. Lumbini forest
D. Rajagriha

49. Which of the following years has been declared by The United Nations General Assembly in its 75th session as the "International Year of Millets"?

A. 2021 B. 2022
C. 2023 D. 2024

50. If the Gross National Product (GNP) is greater than the Gross Domestic Product (GDP) then,

A. Import = Export
B. Export < Import
C. Import < Export
D. Import ≠ Export

46. ऋग्वेद में भारतवर्ष के निम्नलिखित क्षेत्र का वर्णन है-

- A. सतपुड़ा पर्वत
B. सिन्ध
C. पंजाब
D. सप्तसिन्धु प्रदेश

47. 'वसुधैव कुटुम्बकम्' किससे संबंधित है-

- A. कठ उपनिषद्
B. छान्दोग्य उपनिषद्
C. महा उपनिषद्
D. श्रीमद्भगवद्गीता

48. गौतम बुद्ध का जन्म स्थल था-

- A. वैशाली
B. कपिलवस्तु
C. लुम्बिनी वन
D. राजगृह

49. संयुक्त राष्ट्र महासभा द्वारा 75 वें अधिवेशन में "मोटे (Millets) अनाजों का अंतर्राष्ट्रीय वर्ष" निम्न में से किस वर्ष को घोषित किया गया है?

- A. 2021 B. 2022
C. 2023 D. 2024

50. सकल राष्ट्रीय उत्पाद (जीएनपी) सकल घरेलू उत्पाद (जीडीपी) से बड़ा होता है तो,

- A. आयात = निर्यात
B. निर्यात < आयात
C. आयात < निर्यात
D. आयात ≠ निर्यात

SPACE FOR ROUGH WORK / रफ कार्य के लिये जगह

PART - III

Educational Interest

शिक्षण अभिरुचि

51. Which of the following qualities will you look out for in a person when recruiting for work?
- Dedication
 - Hard work
 - Interest in profession
 - All of the above
52. Psychologists consider 'discipline' to be-
- Doing the right thing only when punished
 - Follow the rules
 - Follow the rules automatically
 - Stay well
53. Factors which affect a child's physical growth and development are:
- Heredity
 - Environment
 - Neither heredity nor environment
 - Both heredity and environment
54. Which type of learning is concerned with perception of things to be learned by primary sensory organs?
- Sensory
 - Cognition
 - Verbal
 - Discrimination

51. काम के लिए भर्ती करते समय आप किसी व्यक्ति में निम्नलिखित में से कौन से गुण देखेंगे?
- समर्पण
 - कड़ी मेहनत
 - पेशे में रुचि
 - उपरोक्त सभी
52. मनोवैज्ञानिक 'अनुशासन' को मानते हैं-
- सजा मिलने पर ही सही काम करना
 - नियमों का पालन करें
 - नियमों का स्वतः पालन करें
 - स्वस्थ रहें
53. बच्चे की शारीरिक वृद्धि और विकास को प्रभावित करने वाले कारक हैं:
- आनुवंशिकता
 - पर्यावरण
 - न आनुवंशिकता न पर्यावरण
 - आनुवंशिकता और पर्यावरण दोनों
54. प्राथमिक संवेदी अंगों द्वारा सीखी जाने वाली चीजों की धारणा से किस प्रकार की शिक्षा का संबंध है?
- संवेदी
 - अनुभूति
 - मौखिक
 - भेदभाव

SPACE FOR ROUGH WORK / रफ कार्य के लिये जगह

55. Which transfer of learning refers to the transfer of knowledge and ideas where the learner stays within the same behavioural category in making the transfer?

- A. Positive transfer
- B. Vertical transfer
- C. Zero transfer
- D. Horizontal transfer

56. In terms of communication, most online platforms of teaching and learning are:

- A. Synchronous
- B. Asynchronous
- C. One-to-none
- D. Tied to specific timeframe

57. You are a teacher at school. You have been teaching chemistry to students for the past 2 years. Recently, the physics teacher resigned and the principal asked you to teach the subject for a few days until a replacement was found. You will:

- A. You reject it with
- B. Accept it
- C. Be angry because this is not your topic
- D. None of the above

55. सीखने का कौन सा हस्तांतरण ज्ञान और विचारों के हस्तांतरण को संदर्भित करता है जहां सीखने वाला स्थानांतरण करने में एक ही व्यवहारिक श्रेणी में रहता है?

- A. सकारात्मक स्थानांतरण
- B. कार्यक्षेत्र स्थानांतरण
- C. शून्य स्थानांतरण
- D. क्षैतिज स्थानांतरण

56. संचार के संदर्भ में, शिक्षण और सीखने के अधिकांश ऑनलाइन प्लेटफॉर्म हैं:

- A. तुल्यकालिक
- B. अतुल्यकालिक
- C. एक-से-कोई नहीं
- D. विशिष्ट समय सीमा के लिए

57. आप विद्यालय में शिक्षक हैं। आप पिछले 2 वर्षों से छात्रों को रसायन शास्त्र पढ़ा रहे हैं। हाल ही में, भौतिकी के शिक्षक ने इस्तीफा दे दिया और प्रधानाचार्य ने आपको कुछ दिनों के लिए विषय पढ़ाने के लिए कहा, जब तक कि कोई प्रतिस्थापन नहीं मिला। आप:

- A. आप इसे अस्वीकार करते हैं
- B. इसे स्वीकार करते हैं
- C. क्रोधित होते क्योंकि यह आपका विषय नहीं है
- D. उपरोक्त में से कोई नहीं

SPACE FOR ROUGH WORK / रफ कार्य के लिये जगह

58. Which step is prominent in the syntax of teaching model of memory level and understanding level?

- A. Planning
- B. Exploration
- C. Presentation
- D. None of the above

59. It is preferable to start the classroom communication with-----.

- A. Listening commands
- B. Anecdotes
- C. Unrelated questions
- D. Casual comments

60. In which of the following skill, testing of previous knowledge comes?

- A. Skill of demonstration
- B. Skill of introduction
- C. Skill of stimulus variation
- D. Skill of closure

61. You only know Hindi. You are going to Tamil Nadu next month as you have a job there. You:

- A. Go learn their language while you're there
- B. Start learning Tamil
- C. Right away quit your job because you can't learn Tamil
- D. None of the above

58. स्मृति स्तर और समझ स्तर के शिक्षण मॉडल के वाक्य-विन्यास में कौन सा चरण प्रमुख है?

- A. योजना
- B. अन्वेषण
- C. प्रस्तुति
- D. उपरोक्त में से कोई नहीं

59. कक्षा संचार की शुरुआत ----- से करना बेहतर है।

- A. आज्ञा सुनना
- B. उपाख्यान
- C. असंबंधित प्रश्न
- D. आकस्मिक टिप्पणियाँ

60. निम्नलिखित में से किस कौशल में पूर्व ज्ञान का परीक्षण आता है?

- A. प्रदर्शन का कौशल
- B. परिचय का कौशल
- C. उत्तेजना भिन्नता का कौशल
- D. बंद करने का कौशल

61. आप केवल हिंदी जानते हैं। आप अगले महीने तमिलनाडु जा रहे हैं क्योंकि वहां आपकी नौकरी है। आप:

- A. जब आप वहां हों तो उनकी भाषा सीखें
- B. तमिल सीखना शुरू करें
- C. तुरंत अपनी नौकरी छोड़ दो क्योंकि तुम तमिल नहीं सीख सकते
- D. उपरोक्त में से कोई नहीं

SPACE FOR ROUGH WORK / रफ कार्य के लिये जगह

62. A teacher decides to form six groups of students and assigns a sub theme to each group for discussion and reporting. Which kind of communication model will best describe his/her strategy in this regard?
- A. Transactional model
 - B. Interactional model
 - C. Horizontal model
 - D. Linear model

63. Given Below are two statements:

Statement I : Communication is viewed as one of the social factors that influence the society including educational institutions.

Statement II: Communication does not help develop, maintain and change cultural settings of any society for that matter.

In the light of the above statements, choose the most appropriate answer from the options given below:

- A. Both statements I and statement II are correct
- B. Both statement I and statement II are incorrect
- C. Statement I is correct but statement II is incorrect
- D. Statement I is incorrect but statement II is correct

62. एक शिक्षक छात्रों के छह समूह बनाने का निर्णय लेता है और चर्चा और रिपोर्टिंग के लिए प्रत्येक समूह को एक उप-विषय प्रदान करता है। इस संबंध में किस प्रकार का संचार मॉडल उसकी रणनीति का सबसे अच्छा वर्णन करेगा?
- A. ट्रांसक्शनल मॉडल
 - B. इंटरैक्शनल मॉडल
 - C. क्षैतिज मॉडल
 - D. रैखिक मॉडल

63. नीचे दो कथन दिए गए हैं:

कथन I : संचार को शैक्षणिक संस्थानों सहित समाज को प्रभावित करने वाले सामाजिक कारकों में से एक के रूप में देखा जाता है।

कथन II : संचार उस मामले के लिए किसी भी समाज की सांस्कृतिक सेटिंग्स को विकसित करने, बनाए रखने और बदलने में मदद नहीं करता है।

उपरोक्त कथनों के आलोक में, नीचे दिए गए विकल्पों में से सबसे उपयुक्त उत्तर चुनें:

- A. कथन I और कथन II दोनों सही हैं
- B. कथन I और कथन II दोनों गलत हैं
- C. कथन I सही है लेकिन कथन II गलत है
- D. कथन I गलत है लेकिन कथन II सही है

SPACE FOR ROUGH WORK / रफ कार्य के लिये जगह

64. You are to complete a course within a month to qualify for a promotion that you wanted your response will be-
- A. Take the entire one month time to complete the course
 - B. Complete the course at early as possible
 - C. Complete the course at early as possible and also refer to other sources for more information
 - D. Ask for more time to complete the course as you want to be through with it

65. You have been unemployed for a long time and now you have received a job offer in a kindergarten, but you do not like being with children, so:
- A. You reject the job offer
 - B. You accept it only for a short time
 - C. You accept it and try to have fun with the kids
 - D. None of the above

66. If a teacher finds a problematic child in the class, what should he do?
- A. Send the child back to home immediately
 - B. Ignore the child
 - C. Punish the child
 - D. Provide counselling to the child

64. पदोन्नति के लिए अर्हता प्राप्त करने के लिए आपको एक महीने के भीतर एक कोर्स पूरा करना है, जिसे आप चाहते थे कि आपकी प्रतिक्रिया होगी:
- A. कोर्स पूरा करने के लिए पूरे एक महीने का समय लें
 - B. पाठ्यक्रम को यथाशीघ्र पूरा करें
 - C. पाठ्यक्रम को यथाशीघ्र पूरा करें और अधिक जानकारी के लिए अन्य स्रोतों का भी संदर्भ लें
 - D. पाठ्यक्रम को पूरा करने के लिए अधिक समय मांगें क्योंकि आप इसके साथ संपूर्ण होना चाहते हैं

65. आप लंबे समय से बेरोजगार हैं और अब आपको किंडरगार्टन में नौकरी का प्रस्ताव मिला है, लेकिन आप बच्चों के साथ रहना पसंद नहीं करते हैं, इसलिए:
- A. आप नौकरी की पेशकश को अस्वीकार करते हैं
 - B. आप इसे थोड़े समय के लिए ही स्वीकार करते हैं
 - C. आप इसे स्वीकार करते हैं और बच्चों के साथ मस्ती करने की कोशिश करते हैं
 - D. उपरोक्त में से कोई नहीं

66. यदि एक शिक्षक कक्षा में एक समस्याग्रस्त बच्चे को पाता है, तो उसे क्या करना चाहिए?
- A. बच्चे को तुरंत घर वापस भेज दें
 - B. बच्चे की उपेक्षा करें
 - C. बच्चे को दंड देना
 - D. बच्चे की काउंसलिंग करें

SPACE FOR ROUGH WORK / रफ कार्य के लिये जगह

67. Which of the following statements about children is correct?

- A. Children are passive recipients of knowledge.
- B. Children are problem solvers.
- C. Children are scientific investigators.
- D. Children are active explorers of the environment.

- A. A, B and D are correct
- B. A, C and D are correct
- C. A, B and C are correct
- D. B, C and D are correct

68. You are scared of inflowing deep water because of a childhood accident, but your best friend constantly asks you to learn to swim, then:

- A. You try to swim half-heartedly
- B. You try to learn to swim with full enthusiasm
- C. You won't learn to swim
- D. None of the above

69. Which one of the following is not an obstacle in problem solving?

- A. Anxiety
- B. Negative mental set
- C. Insight
- D. Frustration

67. बच्चों के बारे में निम्नलिखित में से कौन सा कथन सही है?

- A. बच्चे ज्ञान के निष्क्रिय प्राप्तकर्ता हैं।
- B. बच्चे समस्या समाधानकर्ता होते हैं।
- C. बच्चे वैज्ञानिक अन्वेषक होते हैं।
- D. बच्चे पर्यावरण के सक्रिय अन्वेषक हैं।

- A. A, B और D सही हैं
- B. A, C और D सही हैं
- C. A, B और C सही हैं
- D. B, C और D सही हैं

68. बचपन में हुई एक दुर्घटना के कारण आप गहरे पानी में बहने से डरते हैं, लेकिन आपका सबसे अच्छा दोस्त आपसे लगातार तैरना सीखने के लिए कहता है, तो-

- A. आप आधे-अधूरे मन से तैरने की कोशिश करते हैं
- B. आप पूरे उत्साह के साथ तैरना सीखने का प्रयास करते हैं
- C. आप तैरना नहीं सीखोगे
- D. उपरोक्त में से कोई नहीं

69. निम्नलिखित में से कौन समस्या समाधान में बाधा नहीं है?

- A. चिंता
- B. नकारात्मक मानसिक सेट
- C. सूझ
- D. निराशा

SPACE FOR ROUGH WORK / रफ कार्य के लिये जगह

70. Which of the following is not related with cognitive domain?
- A. Knowledge
 - B. Application
 - C. Valuing
 - D. Understanding

71. The determinants of individual differences in human are related to:
- A. Difference in their heredity
 - B. Differences in both heredity and environment
 - C. Interaction between heredity and environment
 - D. None of the above

72. This type of counselling involves people who drop out from school and whose difficulties are likely to be more severe.
- A. Community based counselling
 - B. School based counselling
 - C. Both A and B
 - D. None of the above

73. If you're typing at slow desktop typing speed, which is the main reason for slow growth at your previous jobs, then:
- A. You will try to improve your typing speed half-hearted
 - B. You will fully-focus to improve your typing speed
 - C. You do nothing
 - D. None of the above

70. निम्नलिखित में से कौन सा संज्ञानात्मक डोमेन से संबंधित नहीं है?

- A. ज्ञान
- B. आवेदन
- C. मूल्य निर्धारण
- D. समझ

71. मानव में वैयक्तिक भिन्नताओं के निर्धारक संबंधित हैं:

- A. उनकी आनुवंशिकता में अंतर
- B. आनुवंशिकता और पर्यावरण दोनों में अंतर
- C. आनुवंशिकता और पर्यावरण के बीच सहभागिता
- D. उपरोक्त में से कोई नहीं

72. इस प्रकार की काउंसलिंग में वे लोग शामिल होते हैं जो स्कूल छोड़ देते हैं और जिनकी कठिनाइयाँ अधिक गंभीर होने की संभावना होती है।

- A. समुदाय आधारित परामर्श
- B. स्कूल आधारित परामर्श
- C. A और B दोनों
- D. उपरोक्त में से कोई नहीं

73. यदि आप धीमी गति से टाइप कर रहे हैं, जो आपकी पिछली नौकरियों में धीमी वृद्धि का मुख्य कारण है, तो:

- A. आप आधे-अधूरे मन से अपनी टाइपिंग स्पीड सुधारने की कोशिश करेंगे
- B. आप अपनी टाइपिंग गति में सुधार करने के लिए पूरी तरह से ध्यान केंद्रित करेंगे
- C. आप कुछ नहीं करते हैं
- D. उपरोक्त में से कोई नहीं

SPACE FOR ROUGH WORK / रफ कार्य के लिये जगह

74. An individual underlying potential for acquiring skills is known as-
- Intelligence
 - Personality
 - Aptitude
 - Value
75. Which type of attention makes an individual exercise his will power in a single act to assign a work?
- Implicit
 - Non formal education
 - Involuntary
 - Explicit
76. It is important that the teacher does not segregate children into fixed groups based upon intelligence quotient (IQ) as-
- It is inconvenient for teachers
 - It is inconvenient for schools
 - It does not allow children to compete among themselves across groups
 - The concept of IQ is not stable and it also leads to labelling of children
77. A suitable method of teaching primary class children is-
- Trial and error method
 - Imitation method
 - Lecture method
 - Play way method

74. कौशल प्राप्त करने के लिए एक व्यक्ति अंतर्निहित क्षमता के रूप में जाना जाता है-
- बुद्धि
 - व्यक्तित्व
 - यौग्यता
 - मूल्य
75. किस प्रकार का ध्यान एक व्यक्ति को एक कार्य सौंपने के लिए अपनी इच्छा शक्ति का प्रयोग करता है?
- निहित
 - अनौपचारिक शिक्षा
 - अनैच्छिक
 - स्पष्ट
76. यह महत्वपूर्ण है कि शिक्षक बुद्धि भागफल (IQ) के आधार पर बच्चों को निश्चित समूहों में अलग न करें-
- यह शिक्षकों के लिए असुविधाजनक है
 - यह विद्यालयों के लिए असुविधाजनक है
 - यह बच्चों को समूहों में आपस में प्रतिस्पर्धा करने की अनुमति नहीं देता है
 - आईक्यू की अवधारणा स्थिर नहीं है और इससे बच्चों पर लेबलिंग भी होती है
77. प्राथमिक कक्षा के बच्चों को पढ़ाने की उपयुक्त विधि हैं-
- परीक्षण और त्रुटि विधि
 - नकल विधि
 - व्याख्यान विधि
 - प्ले वे विधि

SPACE FOR ROUGH WORK / रफ कार्य के लिये जगह

78. Which law of the Gestalt Principle of the perceptual organization states, that if enough shape is indicated, people perceive the whole by filling in the missing information?

- A. Law of closure
- B. Law of similarity
- C. Law of proximity
- D. Law of common fate

79. The key to effective listening by students in a classroom is-

- A. Sympathy towards the teacher
- B. Interest in informal education
- C. Empathetic learning
- D. Desire to memorize

80. One of your colleagues asks you to assist him in his personal work during working hours, what will you do?

- A. You will help him immediately
- B. You will tell him to wait and help him after working hours
- C. You will not help him at all, as it is his personal work
- D. You will tell him that he should not be asking people to help him with his personal work

78. अवधारणात्मक संगठन के गेस्टाल्ट सिद्धांत का कौन सा नियम बताता है, कि यदि पर्याप्त आकार का संकेत दिया जाता है, तो लोग लापता जानकारी को भरकर संपूर्ण अनुभव करते हैं?

- A. पूर्तिनियम (क्लोजर का नियम)
- B. समानता का नियम
- C. निकटता का नियम
- D. सामान्य भाग्य का नियम

79. कक्षा में छात्रों द्वारा प्रभावी ढंग से सुनना है-

- A. शिक्षक के प्रति सहानुभूति
- B. अनौपचारिक शिक्षा में रुचि
- C. सहानुभूतिपूर्ण शिक्षा
- D. याद करने की इच्छा

80. आपका एक सहकर्मी आपसे काम के घंटों के दौरान उसके निजी काम में मदद करने के लिए कहता है, आप क्या करेंगे?

- A. आप उसकी तुरंत मदद करेंगे
- B. आप उसे काम के घंटों के बाद इंतजार करने और उसकी मदद करने के लिए कहेंगे
- C. आप उसकी बिल्कुल भी मदद नहीं करेंगे, क्योंकि यह उसका निजी काम है
- D. आप उसे बताएंगे कि उसे अपने निजी काम में लोगों से मदद नहीं मांगनी चाहिए

SPACE FOR ROUGH WORK / रफ कार्य के लिये जगह

PART - IV

General Hindi

सामान्य हिन्दी

81. कौन सा शब्द केश का पर्यायवाची नहीं है?
- A. कच
B. शिरोरूह
C. सरोरूह
D. कुन्तल
82. निम्नांकित में कौन सा वाक्य सही है?
- A. देश भर में बात फैल गई
B. तमाम देश भर में बात फैल गई
C. पूरे देश भर में बात फैल गई
D. संपूर्ण देश भर में बात फैल गई
83. 'ढाक के तीन पात' लोकोक्ति का सही अर्थ है-
- A. स्थिति का परिवर्तनशील होना
B. विरोध करना
C. स्थिति में कोई परिवर्तन नहीं होना
D. बार – बार बात बदलना
84. दो स्वरों का संयुक्त रूप कहलाता है-
- A. मूल स्वर
B. प्रधान स्वर
C. संयुक्त स्वर
D. इनमें से कोई नहीं
85. 'स्वयं' शब्द कौन सा सर्वनाम है?
- A. प्रश्नवाचक
B. पुरुषवाचक
C. निजवाचक
D. अनिश्चयवाचक
86. विचारों को बोलकर व्यक्त करने का कौशल कहा जाता है-
- A. लेखन कौशल
B. श्रवण कौशल
C. मौखिक अभिव्यक्ति कौशल
D. वाचन कौशल
87. जिन वाक्यों में एक बात या काम का होना दूसरी बात या काम के होने पर निर्भर करता है, उन्हें किस प्रकार का वाक्य कहते हैं?
- A. इच्छावाचक वाक्य
B. संकेतवाचक वाक्य
C. संदेहवाचक वाक्य
D. विधानवाचक वाक्य
88. विराम चिन्हों की दृष्टि से कौन सा वाक्य शुद्ध है?
- A. माँ ने बेटे से कहा - रात हो गई, कब आओगे
B. माँ ने बेटे से कहा - रात हो गई, कब आओगे?
C. माँ ने बेटे से कहा - "देर हो रही है, कब आओगे?"
D. माँ ने बेटे से कहा - 'रात हो गई, कब - आओगे?'

SPACE FOR ROUGH WORK / रफ कार्य के लिये जगह

89. 'देहलता' कौन सा समास है?

- A. कर्मधारय समास
- B. अव्ययीभाव समास
- C. बहुब्रीहि समास
- D. द्वन्द्व समास

90. 'कैंची' किस भाषा का शब्द है?

- A. पुर्तगाली
- B. जापानी
- C. तमिल
- D. तुर्की

SPACE FOR ROUGH WORK / रफ कार्य के लिये जगह

PART - V

General English

सामान्य अंग्रेजी

Read the following passage:

There is a wonderful spirit of sociality in the brute creation. Many horses, though quiet with company, will not stay one minute in a field by themselves; the strongest fences cannot restrain them. My neighbour's horse will not only not stay by himself abroad, but he will not bear to be left alone in a strange stable without discovering the utmost impatience, and endeavouring to break the rack and manger with his forefeet. He has been known to leap out of a stable window after company; and yet in other respects is remarkably quiet, but will neglect the finest pasture that is not recommended by society. It would be needless to instance sheep, which constantly flock together.

But this propensity seems not to be confined to animals of the same species; for we know a doe, still alive, that was brought up from a little fawn with a dairy of cows; with them it goes a-field, and with them it returns to the yard. The dogs of the house take no notice of this deer, being used to her; but if strange dogs come by, a chase ensue; while the master smiles to see his favourite securely leading her pursuers over hedge, or gate, or stile; till she returns to the cows, who, with fierce lowings and menacing horns, drive the assailants quite out of the pasture.

Now answer question nos. from 91 to 94 based on the above passage.

91. Which word of the passage means 'tendency'?
 - A. Menacing
 - B. Endeavouring
 - C. Propensity
 - D. Sociality
92. What other animals, as per the passage, dislike being alone?
 - A. Sheep
 - B. Dogs
 - C. Cows
 - D. All of the above
93. In this passage, the 'brute creation' has been used for-
 - A. The horse
 - B. The dogs of the house
 - C. The doe
 - D. The dairy cows
94. What has one particular horse been known to do when left alone?
 - A. To stay in a field for long
 - B. To leap out of the stable window
 - C. To drive away the assailants quite out of the pasture
 - D. To go a field and return to the yard

SPACE FOR ROUGH WORK / रफ कार्य के लिये जगह

95. Choose the correct spelling:-
A. traffic
B. trafic
C. traffick
D. trafik
96. In a job advertisement, many vacant posts have been advertised. And the same advertisement has a clause that reads – ‘The candidate **may** apply for more than one post.’
Here in this sentence ‘may’ means-
A. capability
B. advice
C. possibility
D. volition
97. ----- money the poor widow had collected over the years was stolen.
A. Little
B. A little
C. The little
D. Some
98. Which of the given words is an incorrect form?
A. Injustice
B. Unjust
C. Unjustice
D. None of the above
99. A medicine that destroys bacteria is:-
A. Antibiotic
B. Antidote
C. Antiseptic
D. Antibody
100. Read the following statements:-
I. I saw him steal the money.
II. I saw him stealing the money.
A. Only I is correct
B. Only II is correct
C. Both I and II are correct
D. Both I and II are incorrect

SPACE FOR ROUGH WORK / रफ कार्य के लिये जगह

46 SET A

उत्तर अंकित करने का समय : 2 घंटे
Time for making answers : 2 Hours

अधिकतम अंक : 100
Maximum Marks : 100

नोट :

1. इस प्रश्न पुस्तिका में 100 प्रश्न हैं – प्रत्येक प्रश्न 01 अंक का है। सभी प्रश्न करने अनिवार्य हैं।

भाग	विवरण	प्रश्नों की संख्या	अंक
I	सामान्य मानसिक योग्यता	30	30
II	सामान्य ज्ञान	20	20
III	शिक्षण अभिरुचि	30	30
IV	सामान्य हिन्दी	10	10
V	सामान्य अंग्रेजी	10	10

2. प्रश्नों के उत्तर दी गई OMR उत्तर-शीट (answer sheet) पर अंकित कीजिए।
3. ऋणात्मक मूल्यांकन नहीं किया जावेगा।
4. किसी भी तरह के कैलकुलेटर या लॉग टेबल एवं मोबाइल फोन का प्रयोग वर्जित है।
5. OMR उत्तर-शीट (answer sheet) का प्रयोग करते समय ऐसी कोई असावधानी न बरतें जिससे यह फट जाये या उसमें मोड़ या सिलवट आदि पड़ जाये या वह खराब हो जाये।

Note :

1. This question booklet contains 100 questions each question carries 01 mark.
All questions are compulsory.

Part	Particular	No. of Questions	Marks
I	General Mental Eligibility	30	30
II	General Knowledge	20	20
III	Educational Interest	30	30
IV	General Hindi	10	10
V	General English	10	10

2. Indicate your answers on the OMR answer sheet provided.
3. No negative marking will be done.
4. Use of any type of calculator or log table and mobile phone is prohibited.
5. While using answer-sheet care should be taken so that the answer sheet does not get torn or spoiled due to folds or wrinkles.

SPACE FOR ROUGH WORK / रफ कार्य के लिये जगह



Chhattisgarh Vyavasayik Pariksha Mandal Raipur

Model Answer

Pre D.El.Ed Entrance Exam 2023
(Exam Date : 17-06-2023 Time :02:00 PM - 04:15 PM)
Exam/Subject Code : 20362-MYWLN-PRV-XFYX-E

Q.No.	SET-A	SET-B	SET-C	SET-D	Q.No.	SET-A	SET-B	SET-C	SET-D
1	B	B	C	B	51	D	D	B	A
2	C	A	D	A	52	C	B	B	D
3	B	B	C	A	53	D	D	B	B
4	A	A	B	B	54	B	C	D	B
5	C	B	B	B	55	D	A	C	C
6	C	B	A	A	56	B	C	C	C
7	D	B	A	D	57	B	A	D	B
8	D	D	D	D	58	C	B	B	C
9	A	A	A	D	59	B	D	A	D
10	A	D	B	A	60	B	B	D	C
11	C	B	B	D	61	B	B	C	C
12	B	A	D	B	62	A	C	C	D
13	B	B	B	B	63	C	D	C	A
14	A	B	B	A	64	B	B	B	D
15	B	D	A	C	65	C	C	B	A
16	D	A	B	C	66	D	A	B	D
17	A	D	A	B	67	D	C	B	B
18	B	C	B	B	68	B	A	C	D
19	A	C	C	B	69	C	D	A	C
20	D	C	B	B	70	C	C	A	A
21	B	A	A	C	71	C	B	D	B
22	B	D	C	D	72	A	C	C	C
23	D	D	D	A	73	B	D	D	C
24	A	B	B	C	74	C	B	C	B
25	D	D	A	B	75	A	B	C	C
26	D	B	D	A	76	D	B	B	D
27	B	C	D	B	77	D	C	A	B
28	B	B	B	D	78	A	C	D	B
29	B	A	A	D	79	C	B	D	B
30	A	A	D	A	80	B	D	B	B
31	D	D	C	B	81	C	A	D	A
32	C	D	C	A	82	A	C	C	D
33	C	A	C	D	83	C	D	C	B
34	D	C	D	A	84	C	C	B	D
35	B	C	D	A	85	C	A	C	C
36	B	A	A	C	86	D	C	C	C
37	D	C	B	D	87	B	C	A	A
38	A	C	C	C	88	C	C	C	C
39	A	C	C	B	89	A	B	D	C
40	C	C	D	C	90	D	D	A	C
41	D	D	C	C	91	C	A	B	A
42	A	C	B	D	92	D	C	A	D
43	C	A	D	C	93	A	B	C	C
44	C	D	C	C	94	B	D	D	B
45	C	C	C	D	95	A	C	A	C
46	D	B	A	C	96	D	C	C	C
47	C	C	A	C	97	C	A	C	C
48	C	C	D	D	98	C	A	D	A
49	C	B	C	C	99	A	D	C	A
50	C	D	C	C	100	C	C	A	D

Handwritten signature
09/07/23

Handwritten signature
09/07/23

Handwritten signature
09.07