

Subject
Code

202062-JRKT-ENT-YKIXZ-E

SET -



Question
Booklet No.

परीक्षा केन्द्राध्यक्ष की मोहर
Seal of Superintendent of Examination Centre

परीक्षार्थी द्वारा बॉल-प्वाइंट पेन से भरा जाए
To Be filled in by Candidate by Ball-Point pen only

उत्तर शीट का क्रमांक
Sl. No. of Answer-Sheet

अनुक्रमांक

Roll No.

घोषणा : मैंने नीचे दिये गये निर्देश अच्छी तरह पढ़कर समझ लिए हैं।
Declaration : I have read and understood the instructions given below.

वीक्षक के हस्ताक्षर

(Signature of Invigilator)

वीक्षक के नाम

(Name of Invigilator)

अभ्यर्थी के हस्ताक्षर

(Signature of Candidate)

अभ्यर्थी का नाम

(Name of Candidate)

पूर्णांक - 100

समय - 2 घंटे

प्रश्न पुस्तिका में पृष्ठों की संख्या

Number of Pages in this Question Booklet : 32

प्रश्न पुस्तिका में प्रश्नों की संख्या

Number of Questions in this Question Booklet : 100

अभ्यर्थियों के लिए निर्देश

1. प्रश्न-पुस्तिका मिलते ही मुख पृष्ठ एवं अंतिम पृष्ठ में दिए गए निर्देशों को अच्छी तरह पढ़ लें। दाहिनी ओर लगी सील को वीक्षक के कहने से पूर्व न खोलें।
2. ऊपर दिए हुए निर्धारित स्थानों में अपना अनुक्रमांक, उत्तर-पुस्तिका का क्रमांक लिखें तथा अपने हस्ताक्षर करें।
3. ओ.एम.आर. उत्तर-शीट में समस्त प्रविष्टियां दिये गये निर्देशानुसार करें अन्यथा उत्तर-शीट का मूल्यांकन नहीं किया जाएगा।
4. सील खोलने के बाद सुनिश्चित कर लें कि प्रश्न-पुस्तिका में कुल पृष्ठ ऊपर लिखे अनुसार दिए हुए हैं तथा उसमें सभी 100 प्रश्नों का मुद्रण सही है। किसी भी प्रकार की त्रुटि होने पर 15 मिनट के अंदर वीक्षक को सूचित कर सही प्रश्न-पुस्तिका प्राप्त करें।
5. प्रत्येक प्रश्न हेतु प्रश्न-पुस्तिका में प्रश्न के नीचे दिए गए चार विकल्पों में से सही/सबसे उपयुक्त केवल एक ही विकल्प का चयन कर उत्तर शीट में सही विकल्प वाले गोले को जो उस प्रश्न के सरल क्रमांक से सम्बंधित हो काले या नीले बॉल-प्वाइंट पेन से भरें।
6. सही उत्तर वाले गोले को अच्छी तरह से भरें, अन्यथा उत्तरों का मूल्यांकन नहीं होगा।
7. प्रश्न-पुस्तिका में 100 वस्तुनिष्ठ प्रश्न दिए गए हैं। प्रत्येक प्रश्न के लिए एक अंक निर्धारित है। सभी प्रश्न अनिवार्य हैं।
8. ऋणात्मक मूल्यांकन नहीं किया जावेगा।
9. प्रश्न-पुस्तिका तथा उत्तर-शीट में निर्दिष्ट स्थानों पर प्रविष्टियां भरने के अतिरिक्त कहीं भी कुछ न लिखें।
10. परीक्षा समाप्ति के उपरान्त तथा कक्ष छोड़ने के पूर्व मूल उत्तरशीट वीक्षक को सौंपी जाए। प्रश्न पुस्तिका एवं उत्तर-शीट की कार्बन कॉपी परीक्षार्थी अपने साथ ले जा सकते हैं।
11. इस प्रश्न पत्र में पाँच भाग होंगे :-
 - (i) प्रथम भाग :- सामान्य मानसिक योग्यता - 30 अंक - 1-30 प्रश्न
 - (ii) द्वितीय भाग :- सामान्य ज्ञान - 20 अंक - 31-50 प्रश्न
 - (iii) तृतीय भाग :- शिक्षण अभिरुची - 30 अंक - 51-80 प्रश्न
 - (iv) चतुर्थ भाग :- सामान्य हिन्दी - 10 अंक - 81-90 प्रश्न
 - (v) पंचम भाग :- सामान्य अंग्रेजी - 10 अंक - 91-100 प्रश्नसभी प्रश्न करने अनिवार्य हैं।
12. यदि अंग्रेजी भाषा में कोई संदेह है तो हिन्दी भाषा को ही प्रामाणिक माना जायेगा।

INSTRUCTION TO CANDIDATES

1. Immediately after getting the booklet read instructions carefully, mentioned on the front and back page of the question booklet and do not open the seal given on the right hand side, unless asked by the invigilator.
2. Write your Roll No., Answer Sheet No., in the specified places given above and do your signature.
3. Make all entries in the OMR Answer Sheet as per the given instructions otherwise Answer-Sheet will not be evaluated.
4. After Opening the seal, ensure that the Question booklet contains total no. of pages as mentioned above and printing of all the 100 question is proper. If any discrepancy is found, inform the invigilator within 15 minutes and get the correct booklet.
5. While answering the question from the question Booklet, for each question choose the correct/most appropriate options out of four most appropriate options given, as answer and darken the circle provided against that option in the OMR Answer sheet, bearing the same serial number of the question. Darken the circle only with Black or Blue ball point pen.
6. Darken the circle of choose option fully, otherwise answers will not be evaluated.
7. There are 100 objective type questions in this booklet. All questions are compulsory and carry one mark each.
8. No negative marking will be done.
9. Do not write anything anywhere in the question booklet or on the answer-sheet except making entries in the specified places.
10. When the examination is over, original OMR answer sheet is to be handed over to the invigilator before leaving the examination hall, while question booklet and carbon copy of the answer-sheet can be retained by the candidate.
11. This question paper consists of five parts namely :-
 - (i) First Part :-
General Mental Eligibility - 30 Marks - 1-30 Question
 - (ii) Second Part :-
General Knowledge - 20 Marks - 31-50 Question
 - (iii) Third Part :-
Educational Interest - 30 Marks - 51-80 Question
 - (iv) Fourth Part :- General Hindi - 10 Marks - 81-90 Question
 - (v) Five Part :- General English - 10 Marks - 91-100 QuestionAll questions are compulsory.
12. In case of any ambiguity in English version the Hindi version shall be considered authentic.



Online Student Seva

ONLINE STUDENT SEVA

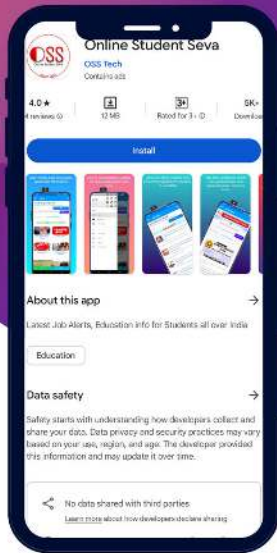
A good option to get
education and exam
related information on
time



Join WhatsApp group

**Message on
78800 35336
to join group**





**DOWNLOAD
THE APP** 



ONLINE STUDENT SEVA

A great app for information related to education and jobs, which will provide you information from time to time.



FIND A JOBS RECRUITMENT

ऑनलाइन स्टूडेंट सेवा एप में आप आसानी से किसी सरकारी नौकरी, भर्ती तथा परीक्षाओं से संबंधित सारी जानकारियां आसानी से ढूँढ सकते हैं।



HELP

किसी भी प्रकार की कोई समस्या जैसे शिक्षा से संबंधित कोई जानकारी चाहिए तो आप हमारे एप में जाकर सविन्य एजेंट से मदद ले सकते हैं।



ONLINE FORM

Online Form भरने में किसी को समस्या आती है तो वो हमारे Agent से संपर्क करके घर बैठे किसी भी किसी भी Exam तथा Admission आदि से संबंधित फॉर्म भर सकते हैं।



25
Posts

26.7K
Followers

5
Following

ONLINE STUDENT SEVA

Educational Consultant

Online Student Seva में आपका स्वागत है 🙏

सरकारी नौकरी एवं भर्ती, स्कूल, कॉलेज, व्यापम एवं लोक सेवा आयोग आदि से संबंधित जानकारी प्राप्त करें ॥

[🔗 onlinestudentseva.com/](https://onlinestudentseva.com/)

सरकारी नौकरी एवं भर्ती, स्कूल, कॉलेज
तथा परीक्षा संबंधित आदि जानकारी प्राप्त
करने के लिए आज ही फॉलो करें।

Follow @online.student.seva

SPACE FOR ROUGH WORK / रफ कार्य के लिये जगह

PART - I

General Mental Eligibility

सामान्य मानसिक योग्यता

1. Choose the correct number in the place of (?).

16, 23, 31, 40, 50, 61, ?

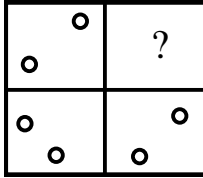
- A. 73
- B. 77
- C. 83
- D. 81

1. निम्नलिखित श्रृंखला में प्रश्नवाचक चिन्ह (?) के स्थान पर कौन सी संख्या आएगी?

16, 23, 31, 40, 50, 61, ?

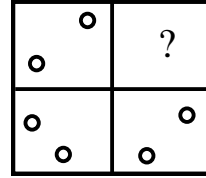
- A. 73
- B. 77
- C. 83
- D. 81

2. Find out the correct option to complete the picture.



- A.
- B.
- C.
- D.

2. आकृति को पूर्ण करने हेतु सही विकल्प का चुनाव कीजिए।



- A.
- B.
- C.
- D.

SPACE FOR ROUGH WORK / रफ कार्य के लिये जगह

3. Find out the wrong number from the series given below.

5, 3, 6, 10, 9, 12, 17, 15, 18, 23

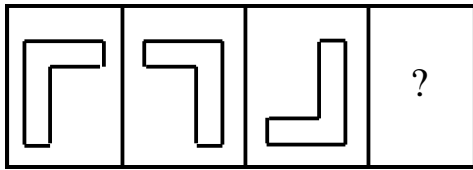
- A. 6
B. 10
C. 9
D. 12

3. निम्नलिखित संख्या श्रेणी में गलत संख्या की पहचान कीजिए।

5, 3, 6, 10, 9, 12, 17, 15, 18, 23

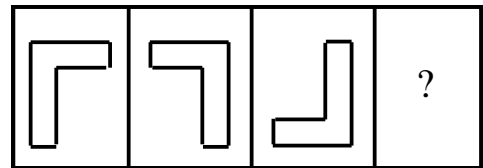
- A. 6
B. 10
C. 9
D. 12

4. Find out the correct option to complete picture series.



- A.
- B.
- C.
- D.

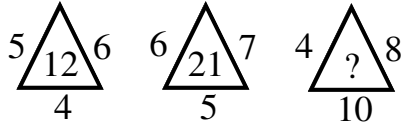
4. चित्र श्रृंखला पूर्ति हेतु सही विकल्प का चुनाव कीजिए?



- A.
- B.
- C.
- D.

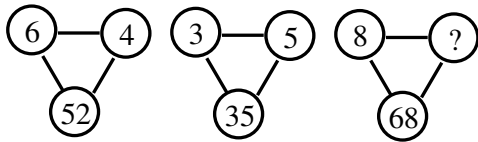
SPACE FOR ROUGH WORK / रफ कार्य के लिये जगह

5. Find out the correct number in place of (?) in given question.



- A. 14 B. 22
C. 32 D. 320

6. Find out the correct number.



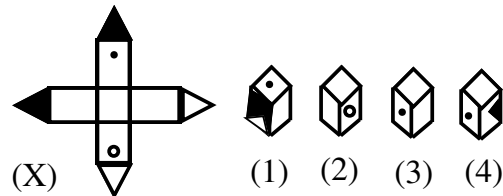
- A. 1 B. 5
C. 2 D. 9

7. Find out the correct number.

10	17	8
5	3	15
6	14	?
42	68	92

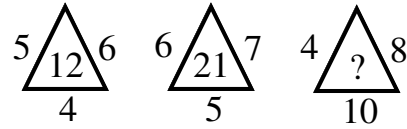
- A. 41 B. 72
C. 24 D. 23

8. Choose the box that is similar to the box formed from the given sheet of paper (X).



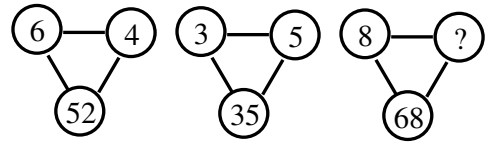
- A. 1 and 2 only B. 1, 2 and 3 only
C. 1 and 3 only D. 1, 2, 3 and 4

5. नीचे दिये गये प्रत्येक प्रश्न में (?) के स्थान पर आने वाली संख्या को चुनो।



- A. 14 B. 22
C. 32 D. 320

6. सही संख्या का चुनाव कीजिए।



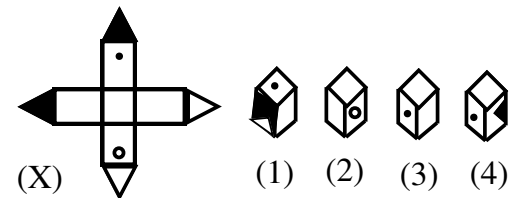
- A. 1 B. 5
C. 2 D. 9

7. सही संख्या का चुनाव कीजिए।

10	17	8
5	3	15
6	14	?
42	68	92

- A. 41 B. 72
C. 24 D. 23

8. उस बॉक्स का चयन करें जो दिए गए कागज़ की शीट (X) से बने बॉक्स के समान है।



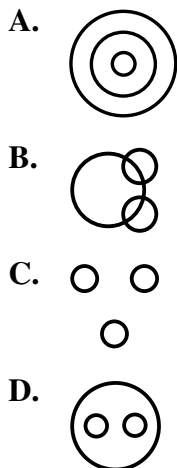
- A. केवल 1 और 2 B. केवल 1, 2 और 3
C. केवल 1 और 3 D. 1, 2, 3 और 4

SPACE FOR ROUGH WORK / रफ कार्य के लिये जगह

9. The series given below has a wrong number, find out that wrong number.
3, 4, 7, 11, 20, 29, 47, 76

- A. 7 B. 11
C. 20 D. 47

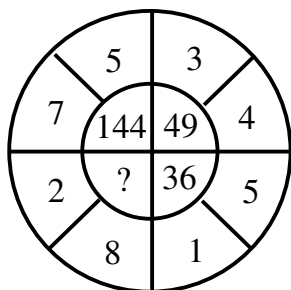
10. Which of the following diagram indicates the best relation between factory, product and machinery?



11. What will be the next group of alphabet in the series given below?
ABD, DGK, HMS, MTB, SBL ----- ?

- A. ZKU B. ZKW
C. XKW D. ZAB

12. Find out the correct number.



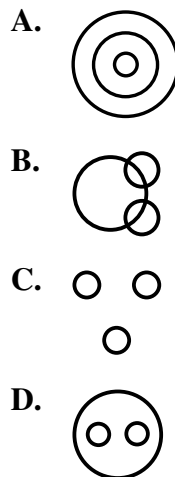
- A. 100 B. 64
C. 121 D. 81

9. निम्नलिखित संख्या श्रेणी में सिर्फ एक पद गलत है, उस गलत पद को ज्ञात करो।

3, 4, 7, 11, 20, 29, 47, 76

- A. 7 B. 11
C. 20 D. 47

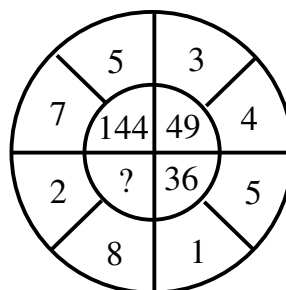
10. निम्नांकित में से कौन सा चित्र फैक्ट्री, उत्पाद तथा मशीन के मध्य संबंध को दर्शाता है?



11. निम्न श्रृंखला में अगला अक्षर समूह कौन सा है?
ABD, DGK, HMS, MTB, SBL ----- ?

- A. ZKU B. ZKW
C. XKW D. ZAB

12. सही विकल्प का चुनाव कीजिए।



- A. 100 B. 64
C. 121 D. 81

SPACE FOR ROUGH WORK / रफ कार्य के लिये जगह

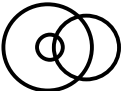



13. Find out the odd one from given numbers.

- A. 240
- B. 304
- C. 272
- D. 210

14. What will be the next alphabet?
AC, EH, IM, MR ----- ?

- A. MI
- B. IL
- C. IM
- D. QW

15. Which of the following diagrams indicates the best relation between women, mothers and engineers?

- A. 
- B. 
- C. 
- D. 

16. What will be the next alphabet in the series given below?
DILQTYBG ----- ?

- A. H
- B. I
- C. J
- D. P

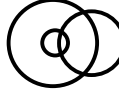



13. दिए गए विकल्पों में से विषम संख्या को चुनिए।

- A. 240
- B. 304
- C. 272
- D. 210

14. निम्नलिखित श्रृंखला में अगला अक्षर कौन सा होगा?

- AC, EH, IM, MR ----- ?
- A. MI
 - B. IL
 - C. IM
 - D. QW

15. निम्नांकित में से कौन सा चित्र स्त्री, माँ तथा इंजिनियर के मध्य संबंध को दर्शाता है?

- A. 
- B. 
- C. 
- D. 

16. निम्न श्रृंखला में अगला अक्षर कौन सा होगा?
DILQTYBG ----- ?

- A. H
- B. I
- C. J
- D. P

SPACE FOR ROUGH WORK / रफ कार्य के लिये जगह

17. Which will complete the following letter series? Find out the correct option-

TAME, SBLD ----- ? QDJB

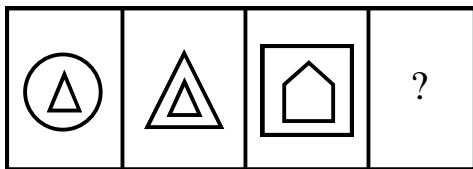
- A. RCKD
- B. UDKE
- C. RCKC
- D. PCKD

17. निम्न अक्षर श्रेणी को कौन पूर्ण करेगा? सही विकल्प का चुनाव करो।

TAME, SBLD ----- ? QDJB

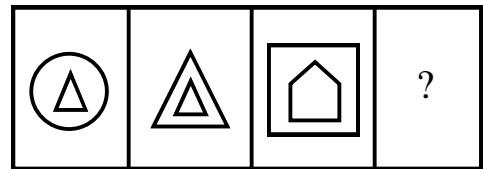
- A. RCKD
- B. UDKE
- C. RCKC
- D. PCKD

18. Find out the correct option to complete the picture series.



- A.
- B.
- C.
- D.

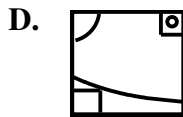
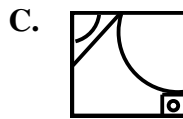
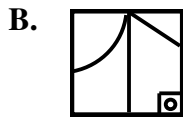
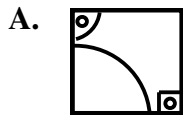
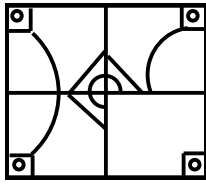
18. आकृति श्रृंखला को पूर्ण करने हेतु सही विकल्प का चुनाव करो।



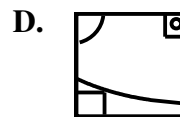

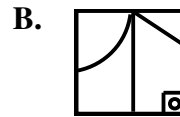
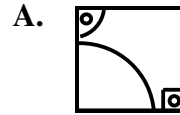
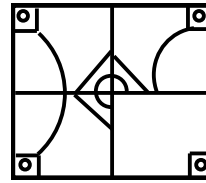
- A.
- B.
- C.
- D.

SPACE FOR ROUGH WORK / रफ कार्य के लिये जगह

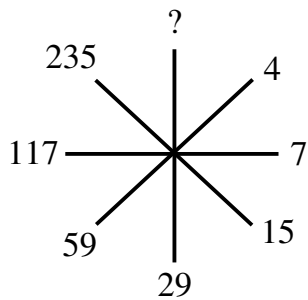
19. Choose the correct option to complete the picture.



19. आकृति को पूर्ण करने हेतु सही विकल्प चुनिए।

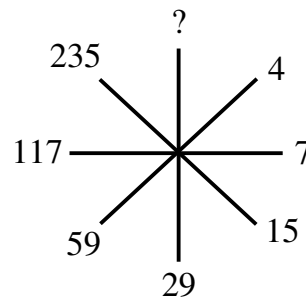


20. Find out the correct number.



- A. 438
- B. 386
- C. 469
- D. 327

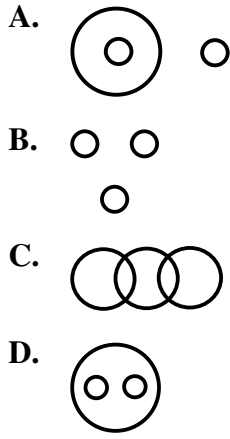
20. सही संख्या का चुनाव कीजिए।



- A. 438
- B. 386
- C. 469
- D. 327

SPACE FOR ROUGH WORK / रफ कार्य के लिये जगह

21. Which of the following diagram indicates the best relation between Travelers, Train and Bus?



22. Arrange in logical sequence
(1) Treatment (2) Doctor (3) Diagnosis
(4) Patient (5) Health benefit

- A. 1, 2, 3, 4, 5
B. 4, 2, 3, 1, 5
C. 2, 3, 1, 4, 5
D. 4, 2, 1, 5, 3

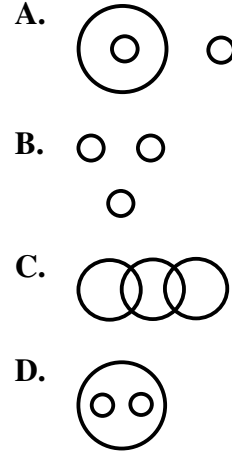
23. Choose the correct number from given option in the place of (?).

- 2, 5, 1441, 122, 365, ?
A. 1000 B. 1094
C. 1059 D. 1029

24. Find out the odd one.

- A. Write
B. Read
C. Learn
D. Knowledge

21. निम्नांकित में से कौन सा चित्र यात्री, ट्रेन तथा बस के मध्य संबंध को दर्शाता है?



22. सार्थक अनुक्रम में सजाएँ?

- (1) इलाज (2) डॉक्टर (3) निदान (4) रोगी
(5) स्वास्थ्य लाभ

- A. 1, 2, 3, 4, 5
B. 4, 2, 3, 1, 5
C. 2, 3, 1, 4, 5
D. 4, 2, 1, 5, 3

23. निम्नलिखित श्रृंखला में प्रश्नवाचक चिन्ह (?) के स्थान पर कौन सी संख्या आएगी?

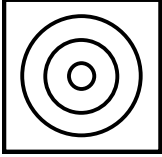
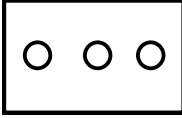
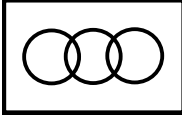

- 2, 5, 1441, 122, 365, ?
A. 1000 B. 1094
C. 1059 D. 1029

24. निम्न में से कौन शेष तीन से भिन्न है?

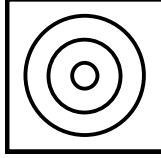
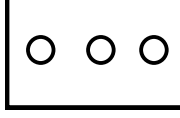
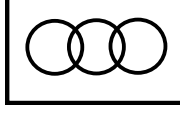

- A. लिखना
B. पढ़ना
C. सीखना
D. ज्ञान

SPACE FOR ROUGH WORK / रफ कार्य के लिये जगह

25. Draw the Venn diagram for Mother, Grandmother and Females.

- A. 
- B. 
- C. 
- D. 

25. माँ, दादी तथा स्त्री को दर्शाने वाला वेन आरेख बनाइए।

- A. 
- B. 
- C. 
- D. 

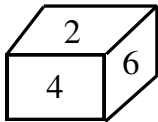
26. Find out the odd one.

- A. Kilogram
B. Gram
C. Ton
D. Foot

26. निम्न में से कौन शेष तीन से भिन्न हैं?

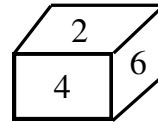
- A. किलोग्राम
B. ग्राम
C. टन
D. फुट

27. Find out the number on opposite face of 4.



- A. 3
B. 5
C. 1
D. 6

27. 4 के विपरीत सतह पर कौन सा अंक होगा?



- A. 3
B. 5
C. 1
D. 6

SPACE FOR ROUGH WORK / रफ कार्य के लिये जगह

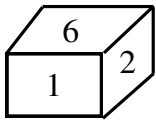
28. A cube is coloured red on all faces. It is cut into 64 smaller cubes of equal size. How many cubes have no face coloured?

- A. 24
- B. 16
- C. 8
- D. 0

28. एक घन की सभी सतहों को लाल रंग से रंग दिया गया। तत्पश्चात् इसे बराबर 64 छोटे घनों में काट दिया गया। ये बताइए कि कितने घनों की सतहों पर कोई रंग नहीं होगा?

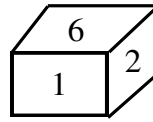
- A. 24
- B. 16
- C. 8
- D. 0

29. Find out the number on opposite face of 1.



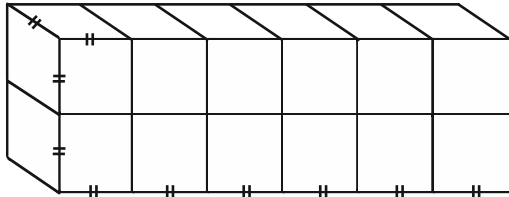
- A. 6
- B. 5
- C. 3/4
- D. 3/4/5

29. 1 के विपरित सतह पर क्या होगा?



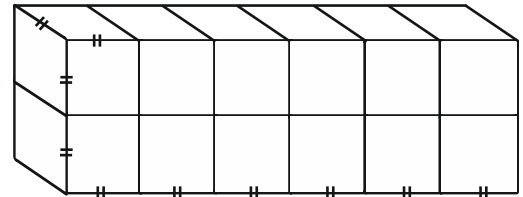
- A. 6
- B. 5
- C. 3/4
- D. 3/4/5

30. How many cubes are there in below figure?



- A. 10
- B. 11
- C. 12
- D. 13

30. निम्नांकित आकृति में घनों की संख्या बताइए?



- A. 10
- B. 11
- C. 12
- D. 13

SPACE FOR ROUGH WORK / रफ कार्य के लिये जगह

PART - II

General Knowledge

सामान्य ज्ञान

31. "Child-Mortality Rate" in India is based on-

- A. Infant Mortality Rate
- B. Under 5 Mortality Rate
- C. Neo-natal Mortality Rate
- D. None of these

32. Think on following statement-

- 1) Arunachal Pradesh have early sunrise.
- 2) Gujrat have late sunset.
- 3) $82^{\circ} 30'$ East longitude is standard parallel of India.
- 4) Longitude extent of India is from $68^{\circ} 7'$ east to $97^{\circ} 25'$ east.

- A. Statement 1 is correct
- B. Statements 1, 3 are correct
- C. All statements are correct
- D. Statement 4 is incorrect

31. भारत में बच्चों की मृत्यु-दर निकालने का आधार क्या है?

- A. शिशु मृत्यु-दर
- B. 5 वर्ष से कम आयु के बच्चों का मृत्यु-दर
- C. नवजात शिशु की मृत्यु-दर
- D. इनमें से कोई नहीं

32. निम्न कथनों पर विचार कीजिये-

- 1) अरुणाचल प्रदेश में सूर्योदय जल्दी होता है।
- 2) गुजरात में सूर्यास्त देर से होता है।
- 3) भारत की मानक याम्योत्तर $82^{\circ} 30'$ पूर्वी देशांतर है।
- 4) भारत का देशांतरीय विस्तार $68^{\circ} 7'$ पूर्व से $97^{\circ} 25'$ पूर्व तक है।

- A. कथन 1 सही
- B. कथन 1, 3 सही
- C. सभी कथन सही
- D. कथन 4 गलत

SPACE FOR ROUGH WORK / रफ कार्य के लिये जगह

33. Consider following statements:
- (1) Glass is a supercooled liquid having infinite viscosity.
 - (2) Chromic oxide is added to impart blue colour in glass.
 - (3) The glass if cooled rapidly becomes brittle and fragile.
 - (4) Crooke's glass does not allow infrared rays to pass through it.
 - (5) Glass is a man-made silicate.

Wrong statements are-

- A. Statement (1) and (3)
 - B. Statement (2) and (3)
 - C. Statement (1) and (5)
 - D. Statement (2) and (4)
34. When was the Ministry of Human Resource Development (MHRD) established?
- A. 1985
 - B. 1987
 - C. 1990
 - D. 1992
35. What is the meaning of "Demographic Dividend" in India?
- A. Proportion of Working Age Population to Non-working Age Population
 - B. Proportion of Youth Population (18 to 35 age group) to total population
 - C. Proportion of 15 to 59 Age group population to total population
 - D. Proportion of 35 to 60 Age Group Population to total population

33. निम्न कथनों पर विचार कीजिये:
- (1) काँच एक अनन्त श्यानता युक्त अतिशीतलित द्रव है।
 - (2) काँच में क्रोमिक आक्साईड मिलाने से नीला रंग उत्पन्न होता है।
 - (3) काँच को यदि त्वरित ठंडा किया जाये तो काँच नाजुक एवं भंगुर हो जाता है।
 - (4) क्रूक काँच अपने से अवरक्त किरणों को गुजरने नहीं देता है।
 - (5) काँच एक मानव निर्मित सिलिकेट है।

गलत कथन हैं-

- A. कथन (1) एवं (3)
 - B. कथन (2) एवं (3)
 - C. कथन (1) एवं (5)
 - D. कथन (2) एवं (4)
34. मानव संसाधन विकास मंत्रालय (MHRD) की स्थापना कब हुई?
- A. 1985
 - B. 1987
 - C. 1990
 - D. 1992
35. भारत में "जनांकिकीय लाभांश" का क्या अर्थ है?
- A. कार्यशील-आयु का गैरकार्यशील आयु जनसंख्या से अनुपात
 - B. कुल जनसंख्या में "युवा जनसंख्या" (18 से 35 आयु वर्ग) का अनुपात
 - C. कुल जनसंख्या में 15 से 59 आयु के जनसंख्या का अनुपात
 - D. कुल जनसंख्या में 35 से 60 वर्ष की आयु वाले जनसंख्या का अनुपात

SPACE FOR ROUGH WORK / रफ कार्य के लिये जगह

36. Which is the latest National Family Health Survey in India?
- A. National Family Health Survey-4
B. National Family Health Survey-5
C. National Family Health Survey-6
D. National Family Health Survey-7
37. Boundary line states of India and Bangladesh are-
- A. West Bengal, Assam, Meghalaya, Tripura, Mizoram
B. West Bengal, Bihar, Assam, Tripura, Meghalaya
C. West Bengal, Assam, Tripura, Mizoram, Manipur
D. West Bengal, Meghalaya, Assam, Manipur
38. What is Indian economy at present?
- A. Developed Economy
B. Developing Economy
C. Underdeveloped Economy
D. Emerging Economy
39. The following *Sufi* Saint belongs to the *Naqshbandi Sufi* Sect.
- A. Shaikh Bahauddin Zakariya
B. Miya Meer
C. Shaykh Ahmad Sirhindi
D. Shaikh Nasiruddin Chiragh
36. भारत में नवीनतम राष्ट्रीय परिवार स्वास्थ्य सर्वेक्षण कौन सा है?
- A. राष्ट्रीय परिवार स्वास्थ्य सर्वेक्षण-4
B. राष्ट्रीय परिवार स्वास्थ्य सर्वेक्षण-5
C. राष्ट्रीय परिवार स्वास्थ्य सर्वेक्षण-6
D. राष्ट्रीय परिवार स्वास्थ्य सर्वेक्षण-7
37. भारत और बांग्लादेश के सीमावर्ती राज्य हैं-
- A. पं. बंगाल, असम, मेघालय, त्रिपुरा, मिज़ोरम
B. पं. बंगाल, बिहार, असम, त्रिपुरा, मेघालय
C. पं. बंगाल, असम, त्रिपुरा, मिज़ोरम, मणिपुर
D. पं. बंगाल, मेघालय, असम, मणिपुर
38. वर्तमान में भारतीय अर्थव्यवस्था क्या है?
- A. विकसित अर्थव्यवस्था
B. विकासशील अर्थव्यवस्था
C. अर्धविकसित अर्थव्यवस्था
D. उभरती अर्थव्यवस्था
39. निम्नलिखित सूफि संत नक़्शबंदी सूफि सम्प्रदाय के हैं।
- A. शेख बहाऊद्दीन जकारिया
B. मियांमीर
C. शेख अहमद सरहिंदी
D. शेख नसीरुद्दीन चिराग

SPACE FOR ROUGH WORK / रफ़ कार्य के लिये जगह

40. Which is matched in the context of VIII schedule?

- (i) Hindi
- (ii) Sanskrit
- (iii) Nepali
- (iv) English

- A. (i)
- B. (i), (ii)
- C. (i), (ii), (iii)
- D. (i), (ii), (iii), (iv)

41. Correct order of electric conductor of metal is-

- A. Aluminium > Copper > Silver > Germanium
- B. Silver > Copper > Aluminium > Germanium
- C. Germanium > Copper > Silver > Aluminium
- D. Germanium > Aluminium > Copper > Silver

42. Match List-I with List-II and select correct answer using following codes:

List-I (Substance)	List-II (Use)
(a) Zeolite	(1) Purgative
(b) Magnesium Sulphate	(2) Rocket fuel
(c) Graphite	(3) Petrochemical Industries
(d) Hydrazine	(4) Fertilizer
(e) Nitrolim	(5) Dry cell

- A. a-3, b-1, c-5, d-2, e-4
- B. a-4, b-3, c-2, d-1, e-5
- C. a-1, b-2, c-3, d-4, e-5
- D. a-2, b-5, c-3, d-1, e-4

40. आठवीं अनुसूची के संदर्भ में क्या सुमेलित है?

- (i) हिन्दी
- (ii) संस्कृत
- (iii) नेपाली
- (iv) अंग्रेजी

- A. (i)
- B. (i), (ii)
- C. (i), (ii), (iii)
- D. (i), (ii), (iii), (iv)

41. धातुओं की विद्युत सुचालक का सही क्रम है-

- A. एल्युमिनियम > कॉपर > सिल्वर > जर्मेनियम
- B. सिल्वर > कॉपर > एल्युमिनियम > जर्मेनियम
- C. जर्मेनियम > कॉपर > सिल्वर > एल्युमिनियम
- D. जर्मेनियम > एल्युमिनियम > कॉपर > सिल्वर

42. सूची-I को सूची-II से सुमेलित कर निम्न कोड की सहायता से सही उत्तर चयनित कीजिये:

सूची-I (पदार्थ)	सूची-II (अनुप्रयोग)
(a) जियोलाईट	(1) रेचक
(b) मैग्नेशियम सल्फेट	(2) रॉकेट ईंधन
(c) ग्रेफाईट	(3) पेट्रोकेमिकल उद्योग
(d) हाइड्राजीन	(4) उर्वरक
(e) नाइट्रोलिम	(5) शुष्क सेल

- A. a-3, b-1, c-5, d-2, e-4
- B. a-4, b-3, c-2, d-1, e-5
- C. a-1, b-2, c-3, d-4, e-5
- D. a-2, b-5, c-3, d-1, e-4

SPACE FOR ROUGH WORK / रफ कार्य के लिये जगह

43. The purpose of Evaluation is-
- Motivating children to study under the pressure of fear
 - Dividing children into classes that are slow learners, intelligent, problematic students, etc.
 - Evaluating all aspects of a child's development
 - Identify children who need remedial learning

44. What is the Name of the author of the book '*Malati Madhav*'?
- Bhavabhuti
 - Kalidas
 - Raj Shekhar
 - Dandin

45. Who doesn't get salary for his original office?
- Vice President
 - Cabinet Minister
 - Member of House of the People
 - Member of Council of States
- (i)
 - (i), (ii)
 - (i), (ii), (iii)
 - (i), (ii), (iii), (iv)

46. When the District Primary Education Programme came into Existence?
- in 1991
 - in 1994
 - in 1996
 - in 1999

43. मूल्यांकन का प्रयोजन है-
- बच्चों को डर के दबाव में अध्ययन के लिए प्रेरित करना
 - बच्चों को धीमी गति से सीखने वाले, होशियार, समस्यात्मक छात्र आदि वर्गों में विभाजित करना
 - बालक के विकास के हर पक्ष का मूल्यांकन करना
 - उन बच्चों को पहचानना जिन्हें उपचारात्मक शिक्षण की आवश्यकता है

44. 'मालती माधव' नामक ग्रन्थ के लेखक का क्या नाम है?
- भवभूति
 - कालीदास
 - राजशेखर
 - दण्डिन

45. कौन अपने मूल पद का वेतन प्राप्त नहीं करता?
- उप राष्ट्रपती
 - कैबिनेट मंत्री
 - लोकसभा सदस्य
 - राज्यसभा सदस्य
- (i)
 - (i), (ii)
 - (i), (ii), (iii)
 - (i), (ii), (iii), (iv)

46. जिला प्राथमिक शिक्षा कार्यक्रम कब लागू हुआ?
- 1991 में
 - 1994 में
 - 1996 में
 - 1999 में

SPACE FOR ROUGH WORK / रफ कार्य के लिये जगह

47. In which year the All India *Kisan Sabha* was established by the Communist and the Socialist of the Congress?

- A. 1917 B. 1928
C. 1927 D. 1936

48. What is correct about the Qualifications for membership of State Legislative Assembly?

- (i) He/she is a citizen of India.
(ii) He/she has completed the age of 25 years.
(iii) He/she has such other Qualifications as prescribed by law made by Parliament.
(iv) He/she makes and subscribes before some person authorised by Election Commission an oath or affirmation according to the form set out for the purpose in the III schedule.

- A. (i)
B. (i), (ii)
C. (i), (ii), (iii)
D. (i), (ii), (iii), (iv)

49. Where was the National Council of Secondary Education Established?

- A. Bikaner B. Bharatpur
C. Alwar D. Jaipur

50. Which one of this does not affect the production of humus in soil?

- A. Flora
B. Fauna
C. Temperature
D. Texture

47. साम्यवादियों एवं कांग्रेस के समाजवादीयों ने अखिल भारतीय किसान सभा की स्थापना किस सन में की थी?

- A. 1917 B. 1928
C. 1927 D. 1936

48. राज्य विधान सभा की सदस्यता के लिए अर्हता के विषय में सही क्या हैं?

- (i) वह भारत का नागरिक हैं।
(ii) उसने 25 वर्ष की आयु पूर्ण कर ली हैं।
(iii) उसके पास ऐसी अर्हताएं हैं जो इस निमित्त संसद द्वारा बनाई गई किसी विधि द्वारा विहित की जाया।
(iv) निर्वाचन आयोग द्वारा इस निमित्त प्राधिकृत व्यक्ति के समक्ष III अनुसूची में इस प्रयोजन के लिए दिए गए प्रारूप के अनुसार शपथ लेता हैं या प्रतिज्ञान करता हैं और उस पर अपना हस्ताक्षर करता हैं।

- A. (i)
B. (i), (ii)
C. (i), (ii), (iii)
D. (i), (ii), (iii), (iv)

49. राष्ट्रीय माध्यमिक शिक्षा परिषद की स्थापना कहाँ हुई?

- A. बीकानेर B. भरतपुर
C. अलवर D. जयपुर

50. निम्न में से कौन मिट्टी में ह्यूमस निर्माण की दर को प्रभावित नहीं करते?

- A. वनस्पति जात
B. प्राणी जात
C. तापमान
D. गठन

SPACE FOR ROUGH WORK / रफ कार्य के लिये जगह

PART - III

Educational Interest

शिक्षण अभिरुची

51. Communication between two or more people is called-
- A. Organizational Communication
 - B. Interpersonal Communication
 - C. Intrapersonal Communication
 - D. None of the above
52. Which one of the following is best suited for the emotional development of children?
- A. Democratic classroom environment
 - B. No involvement of the teacher
 - C. Controlled classroom environment
 - D. Authoritarian classroom environment
53. Which of the following is not considered a tool for formative assessment?
- A. Oral Questions
 - B. Multiple Choice Questions
 - C. Assignments
 - D. Projects
54. The best approach to motivate students is by-
- A. Giving them suitable prizes
 - B. Providing them proper guidance
 - C. Giving examples all the time
 - D. Delivering a speech in class
51. दो या दो से अधिक लोगों के बीच संचार कहलाता है-
- A. संगठनात्मक संचार
 - B. पारस्परिक संचार
 - C. अंतर्वैयक्तिक संचार
 - D. इनमें से कोई नहीं
52. निम्नलिखित में से कौन-सा बच्चों के भावनात्मक विकास के लिए सबसे उपयुक्त है?
- A. लोकतांत्रिक कक्षा का वातावरण
 - B. शिक्षक की भागीदारी नहीं
 - C. नियंत्रित कक्षा का वातावरण
 - D. सत्तावादी कक्षा का वातावरण
53. निम्नलिखित में से कौन रचनात्मक मूल्यांकन के लिए एक उपकरण नहीं माना जाता?
- A. मौखिक प्रश्न
 - B. बहु विकल्पीय प्रश्न
 - C. दत्त कार्य
 - D. परियोजनाओं
54. छात्रों को प्रेरित करने का सबसे अच्छा तरीका है-
- A. उन्हें उपयुक्त पुरस्कार देकर
 - B. उन्हें उचित मार्गदर्शन प्रदान करके
 - C. हर समय उदाहरण देकर
 - D. कक्षा में भाषण देकर

SPACE FOR ROUGH WORK / रफ कार्य के लिये जगह

55. Human Development is-
- Qualitative
 - Quantitative
 - Measurable to a certain extent
 - Both qualitative and quantitative
56. Frobel's most important contribution to education was his development of -----
- High School
 - Middle School
 - Vocational School
 - Kindergarten
57. Which type of factor is motivation?
- Physical
 - Social
 - Psychological
 - Cultural
58. It is said that there are individual differences among students in a class. The fact is-
- Great hindrance to teachers in teaching
 - A suggestion for teachers to be careful in teaching
 - Purely a historical evidence that is outdated today
 - Supported by lazy teachers to find excuses for their weaknesses

55. मानव विकास हैं-
- गुणात्मक
 - मात्रात्मक
 - एक निश्चित सीमा तक मापने
 - गुणात्मक एवं मात्रात्मक दोनों
56. फ्रोबेल का शिक्षा में सबसे महत्वपूर्ण योगदान ----- विकास था।
- उच्च विद्यालय
 - माध्यमिक विद्यालय
 - व्यवसायिक विद्यालय
 - किंडरगार्टन
57. अभिप्रेरणा किस प्रकार का कारक है?
- शारीरिक
 - सामाजिक
 - मनोवैज्ञानिक
 - सांस्कृतिक
58. यह कहा जाता है कि एक कक्षा में विद्यार्थियों के मध्य वैयक्तिक विभिन्नताएँ पायी जाती हैं। यह तथ्य हैं-
- शिक्षण में शिक्षकों हेतु एक बड़ी बाधा है।
 - शिक्षण के दौरान शिक्षकों को सावधान रहने हेतु एक सुझाव है।
 - पूर्णतः एक ऐतिहासिक प्रमाण है जो वर्तमान में अप्रचलित है।
 - ऐसे आलसी शिक्षकों द्वारा समर्थित जो अपनी कमजोरियों के लिए कोई बहाना बनाना चाहते हैं।

SPACE FOR ROUGH WORK / रफ कार्य के लिये जगह

59. Effective Communication needs a supportive ----- environment.

- A. Economic
- B. Social
- C. Political
- D. Multicultural

60. "The child is more important than all kinds of books." This view point of Tagore represents his faith in the following aims of education-

- A. Social aim
- B. Cultural aim
- C. Individual aim
- D. Synthesis of individual and social aim

61. As per NCF 2005, the role of the teacher is that of a-

- A. Reader
- B. Evaluator
- C. Facilitator
- D. All of the above

62. The Montessori schools insist on-

- A. The principle of sense training
- B. Creativeness
- C. Complete discipline and supervision
- D. Well equipped school buildings

59. प्रभावी संचार के लिए एक सहायक ----- वातावरण की आवश्यकता होती है।

- A. आर्थिक
- B. सामाजिक
- C. राजनीतिक
- D. बहुसांस्कृतिक

60. "बच्चा हर तरह की किताबों से ज्यादा महत्वपूर्ण है।" टैगोर का यह दृष्टिकोण शिक्षा के निम्नलिखित उद्देश्यों में उनके विश्वास का प्रतिनिधित्व करता है-

- A. सामाजिक उद्देश्य
- B. सांस्कृतिक उद्देश्य
- C. व्यक्तिगत उद्देश्य
- D. व्यक्तिगत और सामाजिक उद्देश्यों का संश्लेषण

61. एनसीएफ 2005 के अनुसार, शिक्षक की भूमिका हैं-

- A. रीडर
- B. मूल्यांकनकर्ता
- C. सुविधा प्रदान करने वाला
- D. उपरोक्त सभी

62. मोंटेसरी विद्यालय बल देते हैं-

- A. इंद्रिय प्रशिक्षण का सिद्धांत
- B. सृजनात्मकता
- C. पूर्ण अनुशासन और पर्यवेक्षण
- D. सुविधा युक्त विद्यालय भवन

SPACE FOR ROUGH WORK / रफ कार्य के लिये जगह

63. Who developed the first intelligence test?

- A. David Wechsler
- B. Alfred Binet
- C. Charles Edward Spearman
- D. Robert Sternberg

64. Which one of the following is not a quality of a good school?

- A. Teaching of all Subjects
- B. Debating and Essay Writing
- C. No Sporting Events
- D. Developed Laboratory

65. Giving punishment verbal or nonverbal to the children results in-

- A. Motivating them to work
- B. Protecting the child's image
- C. Improving their scores
- D. Damaging their self-concept

66. For a good communication ----- is required.

- A. Clarity of thoughts
- B. Dramatic presentation
- C. Speaking in a mild tone
- D. Speaking without pause

63. पहला बुद्धि परीक्षण किसने विकसित किया?

- A. डेविड वेक्सलर
- B. अल्फ्रेड बिने
- C. चार्ल्स एडवर्ड स्पीयरमैन
- D. रॉबर्ट स्टर्नबर्ग

64. निम्नलिखित में से कौन-सा एक अच्छे विद्यालय का गुण नहीं है?

- A. सभी विषयों का शिक्षण
- B. वाद-विवाद और निबंध लेखन
- C. खेल का कोई आयोजन नहीं
- D. विकसित प्रयोगशाला

65. बच्चों को मौखिक या अशाब्दिक दंड देने का परिणाम होता है-

- A. उन्हें कार्य करने के लिए प्रेरित करना
- B. बच्चे की छवि की रक्षा करना
- C. उनके स्कोर में सुधार लाना
- D. उनकी आत्म-अवधारणा को नुकसान पहुंचाना

66. अच्छे संप्रेषण के लिए ----- की आवश्यकता है।

- A. विचारों की स्पष्टता
- B. नाटकीय प्रस्तुति
- C. हल्के स्वर में बोलना
- D. बिना रुके बोलना

SPACE FOR ROUGH WORK / रफ कार्य के लिये जगह

67. NEP 2020 lays particular emphasis on the development of -----
- The best infrastructure in the world
 - The provision to give 100 employment
 - The provision to give free education
 - The creative potential of each individual
68. Which of the following is the subject matter of Psychology?
- Soul
 - Mind
 - Human Being
 - Behaviour
69. Which of the following is not a quality of a teacher?
- Patience and tolerance
 - Sweet, polite and clear voice
 - Superstitious
 - Good communication skill
70. What is most important while writing on a black board?
- Use of colour chalk
 - Neat handwriting and adequate spacing
 - Clear and correct writing
 - Proper use of duster
67. एनईपी 2020 ----- के विकास पर विशेष बल देता है।
- दुनिया में सबसे अच्छा बुनियादी ढांचा
 - 100 रोजगार देने का प्रावधान
 - मुफ्त शिक्षा देने का प्रावधान
 - प्रत्येक व्यक्ति की रचनात्मक क्षमता
68. मनोविज्ञान की विषय वस्तु निम्नलिखित में से कौन-सी है?
- आत्मा
 - मन
 - मनुष्य
 - व्यवहार
69. निम्नलिखित में से कौन-सा एक शिक्षक का गुण नहीं है?
- धैर्य और सहशीलता
 - मधुर, विनम्र और स्पष्ट आवाज
 - अंध विश्वासी
 - अच्छा संचार कौशल
70. श्यामपट्ट पर लिखते समय सर्वाधिक महत्वपूर्ण क्या है?
- रंगीन चॉक का प्रयोग
 - स्वच्छ लिखावट और पंक्तियों में उपयुक्त अंतर
 - स्पष्ट और शुद्ध लेखन
 - डस्टर का उचित प्रयोग

SPACE FOR ROUGH WORK / रफ कार्य के लिये जगह

71. One fundamental principle of motivation which inspires students to work harder is when-
- A. Students set their own goals
 - B. Students follow reasonable goals set by others
 - C. Students know that punishment may follow
 - D. Students know they will receive rewards

72. The purpose of the new education policy is-
- A. To provide equal opportunity of education to all
 - B. To improve the whole education system
 - C. To link the education with employment
 - D. To link the degree with education

73. You like teaching profession because-
- A. It has less responsibility
 - B. You are interested in it
 - C. It is easy
 - D. It provide you more holidays

71. अभिप्रेरणा का एक मूलभूत नियम जो छात्रों को कठिन परिश्रम करने के लिए प्रेरित करता है। जब-
- A. छात्र अपने लक्ष्य स्वयं निश्चित करते हैं।
 - B. छात्र अन्य द्वारा निश्चित तर्कसम्मत लक्ष्य का अनुसरण करते हैं।
 - C. छात्र जानते हैं कि दंड सम्भावित हैं।
 - D. छात्र जानते हैं कि वे पुरस्कार प्राप्त करेंगे।

72. नई शिक्षा नीति का उद्देश्य है-
- A. सभी को शिक्षा का समान अवसर प्रदान करना
 - B. संपूर्ण शिक्षा प्रणाली में सुधार करने के लिए
 - C. शिक्षा को रोजगार से जोड़ने के लिए
 - D. डिग्री को शिक्षा से जोड़ने के लिए

73. आपको शिक्षण व्यवसाय पसंद है क्योंकि-
- A. इसमें कम जिम्मेदारी हैं
 - B. आप इसमें रुचि रखते हैं
 - C. यह आसान हैं
 - D. यह आपको अधिक छुट्टियां प्रदान करता हैं

SPACE FOR ROUGH WORK / रफ कार्य के लिये जगह

74. The expected behaviour of teacher is-

- A. Idealistic
- B. Instructive
- C. Directive
- D. Impressive

75. We all differ in terms of intelligence, motivation, interest etc. This principle refers to-

- A. Individual Difference
- B. Theories of Intelligence
- C. Heredity
- D. Environment

76. Which quality is most important for students?

- A. Hard work
- B. Obedience
- C. Humility
- D. Independent thinking

77. Field of study of child development-

- A. Study of different stages of child development
- B. Study of various effects of environment on child development
- C. Study of Individual difference
- D. All of the above

74. एक शिक्षक का अपेक्षित व्यवहार हैं-

- A. आदर्शवादी
- B. सूचनाप्रद
- C. निदेशात्मक
- D. प्रभावशाली

75. हम सभी बुद्धि, प्रेरणा, रुचि आदि के संदर्भ में भिन्न हैं। यह सिद्धांत संदर्भित करता है-

- A. व्यक्तिगत विभिन्नता
- B. बुद्धि के सिद्धांत
- C. वंशागति
- D. पर्यावरण

76. विद्यार्थियों के लिए सर्वाधिक महत्वपूर्ण गुण कौन-सा हैं?

- A. कठिन परिश्रम
- B. आज्ञाकारिता
- C. विनम्रता
- D. स्वतंत्र चिंतन

77. बाल विकास के अध्ययन का क्षेत्र-

- A. बाल विकास के विभिन्न चरणों का अध्ययन
- B. बाल विकास पर पर्यावरण के विभिन्न प्रभावों का अध्ययन
- C. व्यक्तिगत विभिन्नताओं का अध्ययन
- D. उपरोक्त में से सभी

SPACE FOR ROUGH WORK / रफ कार्य के लिये जगह

78. The study of child development is important-
- A. For proper upbringing of children
 - B. For all-round development of children
 - C. To control the behaviour of children
 - D. For the creation of good citizen

79. Which of the following are the characteristics of Adolescence?
- A. Stage of storm and impulse
 - B. Sense of self esteem
 - C. Difficult period of life
 - D. All of the above

80. Each student's interests, capabilities and qualifications ----- from one to the other.
- A. More
 - B. Less
 - C. Differ
 - D. None of the above

78. बाल विकास का अध्ययन महत्वपूर्ण हैं-
- A. बच्चों की उचित परवरिश के लिए
 - B. बच्चों के सर्वांगीण विकास के लिए
 - C. बच्चों के व्यवहार को नियंत्रित करने के लिए
 - D. अच्छे नागरिक के निर्माण के लिए

79. किशोर अवस्था की विशेषताएँ निम्नलिखित में से कौन-सी हैं?
- A. तूफान व संवेग की अवस्था
 - B. आत्म सम्मान की भावना
 - C. जीवन का सबसे कठिन काल
 - D. उपरोक्त में से सभी

80. प्रत्येक विद्यार्थी की अभिरुचियाँ, अभिक्षमताएँ व योग्यताएँ एक के अपेक्षा दूसरे में ----- होती हैं।
- A. अधिक
 - B. कम
 - C. भिन्न
 - D. इनमें से कोई भी नहीं

SPACE FOR ROUGH WORK / रफ कार्य के लिये जगह

PART - IV

General Hindi

सामान्य हिन्दी

81. निम्नलिखित में से 'प्रस्तर' का तद्भव शब्द है-
- A. पाथर
B. पत्थर
C. पत्तर
D. फत्थर
82. 'भारत देश महान है' इस वाक्य में प्रयुक्त विशेषण है-
- A. भारत
B. महान
C. देश
D. भारत एवं महान
83. दिए गए विकल्पों में से सही वाक्य चुनिए-
- A. भारत में दर्शनीय स्थल अनेक देखने योग्य हैं
B. भारत में अनेक दर्शनीय स्थल हैं।
C. भारत में अनेक दर्शनीय स्थल देखने योग्य हैं
D. अनेक योग्य दर्शनीय स्थल देखने को हैं
84. 'काम काज में कोरा होना' मुहावरों का अर्थ होगा-
- A. काम पूरा नहीं करना
B. काम जल्दी खत्म करना
C. काम न जानना
D. काम धीरे धीरे करना
85. वाक्य के अंगों के नाम हैं-
- A. उद्देश्य और उद्देश्य विस्तार
B. विधेय और विधेय विस्तार
C. उद्देश्य और विधेय
D. इनमें से कोई नहीं
86. लेखन क्रिया के शिक्षण का आरंभ होता है-
- A. घुण्डियों से
B. तिरछी रेखाओं से
C. सीधी रेखाओं से
D. अक्षरों से
87. अक्षर का अनेकार्थी शब्द है-
- A. अज
B. आत्मा
C. समय
D. सूर्य
88. अति का विलोम शब्द है-
- A. न्यून
B. अल्प
C. कम
D. नगण्य

SPACE FOR ROUGH WORK / रफ कार्य के लिये जगह

89. निम्न शब्दों में बहुवचन शब्द है-

- A. पानी
- B. जनता
- C. वर्षा
- D. योद्धा

90. 'ई' का उच्चारण स्थान है-

- A. कंठ्य
- B. तालव्य
- C. ओष्ठ्य
- D. दंत्य

SPACE FOR ROUGH WORK / रफ कार्य के लिये जगह

PART - V

General English

सामान्य अंग्रेजी

91. Choose the correct antonym of the given word:-

Kith

- A. Strangers
- B. Outfit
- C. Son
- D. Relative

92. Transform the given sentence into complex sentences:-

We have informed her of her success.

- A. We have informed her of her being successful.
- B. She has been informed by us of her success.
- C. We have informed her that she has succeeded.
- D. She has been informed that she has succeeded.

93. Choose one of best expresses the given sentence in indirect/direct speech:-

He said to us "Why are you all sitting about there doing nothing?"

- A. He asked us why are we all sitting about there doing nothing
- B. He asked us why we are all sitting about there doing nothing
- C. He asked us why we were all sitting about there doing nothing
- D. He asked us why were we all sitting about there doing nothing

94. Change the voice of the sentence:-

We will not allow them to runaway.

- A. They will not be allowed to run away by us.
- B. They would not be allowed to run away.
- C. They are not allowed to run away.
- D. They were not allowed to run away.

95. Choose the correctly punctuated sentence:-

- A. well we have finished our work for the day!
- B. Well, we have finished; our work for the day.
- C. Well, we have finished our work for the day.
- D. Well! We have finished our work for the day?

96. Choose the correct spelling:-

- A. Amatuer
- B. Amature
- C. Amateur
- D. Ameteur

SPACE FOR ROUGH WORK / रफ कार्य के लिये जगह

97. What type of sentence is the following sentence?

I have got four sisters and each of them is quite different from the others.

- A. Simple sentence
- B. Compound sentence
- C. Complex sentence
- D. Compound-Complex sentence

98. Choose one word for the following sentence:-

A person who agrees to work for somebody in order to learn skill

- A. Assistant
- B. Pupil
- C. Apprentice
- D. Lackey

99. Choose the correct answer:-

'Prediction' as a sub-skill is associated with

- A. Summarizing
- B. Note making
- C. Reading
- D. Drafting

100. Choose the correct synonym:-

Defer

- A. Indifferent
- B. Defy
- C. Differ
- D. Postpone

SPACE FOR ROUGH WORK / रफ कार्य के लिये जगह

SPACE FOR ROUGH WORK / रफ कार्य के लिये जगह

SPACE FOR ROUGH WORK / रफ कार्य के लिये जगह

SET - A

उत्तर अंकित करने का समय : 2 घंटे
Time for making answers : 2 Hours

अधिकतम अंक : 100
Maximum Marks : 100

नोट :

1. इस प्रश्न पुस्तिका में 100 प्रश्न हैं – प्रत्येक प्रश्न 1 अंक का है। सभी प्रश्न करने अनिवार्य हैं।
2. प्रश्नों के उत्तर दी गई OMR उत्तर-शीट (Answer Sheet) पर अंकित कीजिए।
3. ऋणात्मक मूल्यांकन नहीं किया जावेगा।
4. किसी भी तरह के कैलकुलेटर या लॉग टेबल एवं मोबाइल फोन का प्रयोग वर्जित है।
5. OMR उत्तर-शीट (Answer Sheet) का प्रयोग करते समय ऐसी कोई असावधानी न बरतें जिससे यह फट जाये या उसमें मोड़ या सिलवट आदि पड़ जाये या वह खराब हो जाये।

Note :

1. This question booklet contains 100 questions each question carries 1 mark. All questions are compulsory.
2. Indicate your answers on the OMR Answer-Sheet provided.
3. No negative marking will be done.
4. Use of any type of calculator or log table and mobile phone is prohibited.
5. While using Answer-Sheet care should be taken so that the Answer-Sheet does not get torn or spoiled due to folds or wrinkles.



Chhattisgarh Professional Examination Board Raipur
Pre D.El.Ed. Entrance Exam - 2022 (Time :02:00 to 4:15 pm)
Sub. Code : 202062-JRKT-ENT-YKIXZ-E(Model Answer) Set - A

Qu.	Ans.	Qu.	Ans.	Qu.	Ans.	Qu.	Ans.	Qu.	Ans.	Qu.	Ans.	Qu.	Ans.	Qu.	Ans.	Qu.	Ans.	Qu.	Ans.
1	A	11	B	21	C	31	B	41	B	51	B	61	C	71	A	81	B	91	A
2	D	12	D	22	B	32	C	42	A	52	A	62	A	72	B	82	B	92	C
3	B	13	D	23	B	33	D	43	C	53	B	63	B	73	B	83	B	93	D
4	D	14	D	24	D	34	A	44	A	54	A	64	C	74	A	84	C	94	A
5	C	15	A	25	A	35	B	45	B	55	D	65	D	75	A	85	C	95	C
6	C	16	C	26	D	36	B	46	B	56	D	66	A	76	D	86	C	96	C
7	D	17	C	27	A	37	A	47	D	57	C	67	D	77	D	87	B	97	B
8	A	18	A	28	C	38	D	48	D	58	A	68	D	78	B	88	B	98	C
9	C	19	C	29	D	39	C	49	D	59	B	69	C	79	D	89	D	99	C
10	D	20	C	30	C	40	C	50	D	60	C	70	B	80	C	90	A	100	D

1. अभ्यर्थी वेबसाइट में प्रदर्शित उत्तरों पर सप्रमाण दावा/आपत्ति 25 Jun 2022 5:00 PM तक नीचे दिये गये प्रारूप में व्यापम में स्वयं उपस्थित होकर, डाक द्वारा या व्यापम की वेबसाइट पर दावा/आपत्ति सेक्शन में उपलब्ध पोर्टल पर भेज सकते हैं। नियत दिनांक एवं समय के पश्चात् प्राप्त दावा/आपत्ति स्वीकार नहीं किया जावेगा। बिना प्रमाण का दावा/आपत्ति को पूर्णतः अमान्य किया जावेगा। नीचे दिए गए प्रपत्र में, प्रत्येक प्रश्न के लिए अलग सा पृष्ठ का प्रयोग करते हुए दावा/आपत्ति प्रस्तुत न होने पर भी उसे पूर्णतः अमान्य किया जावेगा। एक पृष्ठ में एक से अधिक प्रश्नों पर दावा/आपत्ति प्रस्तुत करने पर उन पर विचार नहीं किया जावेगा।

दावाकर्ता का रोल न.	नाम	प्रश्न पत्र सेट एवं प्रश्न क्रमांक	मॉडल आंसर में दिया गया उत्तर	दावाकर्ता का उत्तर	अपने दावा के सम्बन्ध में प्रस्तुत प्रमाण की पृष्ठों की संख्या

3. प्राप्त दावा/आपत्ति के परीक्षण पश्चात् विषय विशेषज्ञों द्वारा अंतिम निर्णय लिया जावेगा।

4. दावा/आपत्ति के सम्बन्ध में विषय विशेषज्ञों का निर्णय ही मान्य किया जावेगा।

CONTROLLER, C.G. VYAPAM, ATAL NAGAR, NAWA RAIPUR

Print



Chhattisgarh Professional Examination Board Raipur
Pre D.El.Ed. Entrance Exam - 2022 (Time :02:00 to 4:15 pm)
Sub. Code : 202062-JRKT-ENT-YKIXZ-E(Model Answer) Set - B

Qu.	Ans.	Qu.	Ans.	Qu.	Ans.	Qu.	Ans.	Qu.	Ans.	Qu.	Ans.	Qu.	Ans.	Qu.	Ans.	Qu.	Ans.	Qu.	Ans.
1	D	11	D	21	B	31	B	41	D	51	D	61	D	71	A	81	C	91	C
2	D	12	C	22	C	32	B	42	D	52	C	62	D	72	C	82	B	92	C
3	C	13	C	23	A	33	A	43	A	53	C	63	A	73	A	83	B	93	D
4	B	14	C	24	D	34	B	44	D	54	B	64	D	74	D	84	D	94	B
5	A	15	C	25	A	35	A	45	A	55	B	65	A	75	A	85	B	95	C
6	B	16	D	26	C	36	D	46	D	56	B	66	B	76	C	86	C	96	C
7	A	17	D	27	C	37	B	47	C	57	C	67	A	77	B	87	C	97	C
8	D	18	C	28	D	38	C	48	B	58	D	68	C	78	D	88	A	98	A
9	D	19	A	29	C	39	B	49	D	59	A	69	D	79	A	89	B	99	D
10	A	20	B	30	D	40	C	50	C	60	B	70	B	80	B	90	B	100	A

1. अभ्यर्थी वेबसाइट में प्रदर्शित उत्तरों पर सप्रमाण दावा/आपत्ति 25 Jun 2022 5:00 PM तक नीचे दिये गये प्रारूप में व्यापम में स्वयं उपस्थित होकर, डाक द्वारा या व्यापम की वेबसाइट पर दावा/आपत्ति सेक्शन में उपलब्ध पोर्टल पर भेज सकते हैं। नियत दिनांक एवं समय के पश्चात् प्राप्त दावा/आपत्ति स्वीकार नहीं किया जावेगा। बिना प्रमाण का दावा/आपत्ति को पूर्णतः अमान्य किया जावेगा। नीचे दिए गए प्रपत्र में, प्रत्येक प्रश्न के लिए अलग सा पृष्ठ का प्रयोग करते हुए दावा/आपत्ति प्रस्तुत न होने पर भी उसे पूर्णतः अमान्य किया जावेगा। एक पृष्ठ में एक से अधिक प्रश्नों पर दावा/आपत्ति प्रस्तुत करने पर उन पर विचार नहीं किया जावेगा।

दावाकर्ता का रोल न.	नाम	प्रश्न पत्र सेट एवं प्रश्न क्रमांक	मॉडल आंसर में दिया गया उत्तर	दावाकर्ता का उत्तर	अपने दावा के सम्बन्ध में प्रस्तुत प्रमाण की पृष्ठों की संख्या

3. प्राप्त दावा/आपत्ति के परीक्षण पश्चात् विषय विशेषज्ञों द्वारा अंतिम निर्णय लिया जावेगा।

4. दावा/आपत्ति के सम्बन्ध में विषय विशेषज्ञों का निर्णय ही मान्य किया जावेगा।

CONTROLLER, C.G. VYAPAM, ATAL NAGAR, NAWA RAIPUR

Print



Chhattisgarh Professional Examination Board Raipur
Pre D.El.Ed. Entrance Exam - 2022 (Time :02:00 to 4:15 pm)
Sub. Code : 202062-JRKT-ENT-YKIXZ-E(Model Answer) Set - C

Qu.	Ans.	Qu.	Ans.	Qu.	Ans.	Qu.	Ans.	Qu.	Ans.	Qu.	Ans.	Qu.	Ans.	Qu.	Ans.	Qu.	Ans.	Qu.	Ans.
1	A	11	C	21	D	31	A	41	B	51	B	61	D	71	C	81	D	91	A
2	A	12	D	22	B	32	D	42	C	52	D	62	C	72	A	82	A	92	B
3	C	13	D	23	C	33	B	43	B	53	D	63	A	73	A	83	B	93	C
4	B	14	C	24	A	34	B	44	D	54	B	64	A	74	B	84	B	94	C
5	D	15	C	25	C	35	D	45	A	55	A	65	D	75	A	85	B	95	D
6	A	16	B	26	D	36	B	46	D	56	D	66	C	76	C	86	C	96	C
7	A	17	C	27	D	37	A	47	A	57	B	67	B	77	B	87	B	97	A
8	D	18	C	28	B	38	C	48	D	58	B	68	A	78	B	88	C	98	C
9	C	19	D	29	D	39	C	49	C	59	D	69	D	79	C	89	C	99	C
10	A	20	C	30	D	40	B	50	D	60	A	70	C	80	D	90	B	100	D

1. अभ्यर्थी वेबसाइट में प्रदर्शित उत्तरों पर सप्रमाण दावा/आपत्ति 25 Jun 2022 5:00 PM तक नीचे दिये गये प्रारूप में व्यापम में स्वयं उपस्थित होकर, डाक द्वारा या व्यापम की वेबसाइट पर दावा/आपत्ति सेक्शन में उपलब्ध पोर्टल पर भेज सकते हैं। नियत दिनांक एवं समय के पश्चात् प्राप्त दावा/आपत्ति स्वीकार नहीं किया जावेगा। बिना प्रमाण का दावा/आपत्ति को पूर्णतः अमान्य किया जावेगा। नीचे दिए गए प्रपत्र में, प्रत्येक प्रश्न के लिए अलग सा पृष्ठ का प्रयोग करते हुए दावा/आपत्ति प्रस्तुत न होने पर भी उसे पूर्णतः अमान्य किया जावेगा। एक पृष्ठ में एक से अधिक प्रश्नों पर दावा/आपत्ति प्रस्तुत करने पर उन पर विचार नहीं किया जावेगा।

दावाकर्ता का रोल न.	नाम	प्रश्न पत्र सेट एवं प्रश्न क्रमांक	मॉडल आंसर में दिया गया उत्तर	दावाकर्ता का उत्तर	अपने दावा के सम्बन्ध में प्रस्तुत प्रमाण की पृष्ठों की संख्या

3. प्राप्त दावा/आपत्ति के परीक्षण पश्चात् विषय विशेषज्ञों द्वारा अंतिम निर्णय लिया जावेगा।

4. दावा/आपत्ति के सम्बन्ध में विषय विशेषज्ञों का निर्णय ही मान्य किया जावेगा।

CONTROLLER, C.G. VYAPAM, ATAL NAGAR, NAWA RAIPUR

Print



Chhattisgarh Professional Examination Board Raipur
Pre D.El.Ed. Entrance Exam - 2022 (Time :02:00 to 4:15 pm)
Sub. Code : 202062-JRKT-ENT-YKIXZ-E(Model Answer) Set - D

Qu.	Ans.	Qu.	Ans.	Qu.	Ans.	Qu.	Ans.	Qu.	Ans.	Qu.	Ans.	Qu.	Ans.	Qu.	Ans.	Qu.	Ans.	Qu.	Ans.
1	C	11	A	21	C	31	C	41	D	51	D	61	D	71	A	81	B	91	D
2	C	12	C	22	D	32	D	42	D	52	B	62	D	72	A	82	B	92	C
3	C	13	C	23	D	33	A	43	B	53	D	63	D	73	C	83	B	93	C
4	B	14	B	24	A	34	B	44	D	54	B	64	D	74	C	84	C	94	C
5	B	15	C	25	A	35	B	45	B	55	B	65	A	75	A	85	A	95	A
6	C	16	C	26	D	36	C	46	D	56	C	66	C	76	B	86	C	96	C
7	D	17	C	27	D	37	A	47	A	57	C	67	A	77	B	87	B	97	C
8	A	18	D	28	D	38	B	48	C	58	A	68	B	78	D	88	C	98	A
9	D	19	D	29	A	39	B	49	C	59	A	69	D	79	C	89	D	99	B
10	B	20	A	30	D	40	D	50	A	60	B	70	B	80	A	90	B	100	D

1. अभ्यर्थी वेबसाइट में प्रदर्शित उत्तरों पर सप्रमाण दावा/आपत्ति 25 Jun 2022 5:00 PM तक नीचे दिये गये प्रारूप में व्यापम में स्वयं उपस्थित होकर, डाक द्वारा या व्यापम की वेबसाइट पर दावा/आपत्ति सेक्शन में उपलब्ध पोर्टल पर भेज सकते हैं। नियत दिनांक एवं समय के पश्चात् प्राप्त दावा/आपत्ति स्वीकार नहीं किया जावेगा। बिना प्रमाण का दावा/आपत्ति को पूर्णतः अमान्य किया जावेगा। नीचे दिए गए प्रपत्र में, प्रत्येक प्रश्न के लिए अलग सा पृष्ठ का प्रयोग करते हुए दावा/आपत्ति प्रस्तुत न होने पर भी उसे पूर्णतः अमान्य किया जावेगा। एक पृष्ठ में एक से अधिक प्रश्नों पर दावा/आपत्ति प्रस्तुत करने पर उन पर विचार नहीं किया जावेगा।

दावाकर्ता का रोल न.	नाम	प्रश्न पत्र सेट एवं प्रश्न क्रमांक	मॉडल आंसर में दिया गया उत्तर	दावाकर्ता का उत्तर	अपने दावा के सम्बन्ध में प्रस्तुत प्रमाण की पृष्ठों की संख्या

3. प्राप्त दावा/आपत्ति के परीक्षण पश्चात् विषय विशेषज्ञों द्वारा अंतिम निर्णय लिया जावेगा।

4. दावा/आपत्ति के सम्बन्ध में विषय विशेषज्ञों का निर्णय ही मान्य किया जावेगा।

CONTROLLER, C.G. VYAPAM, ATAL NAGAR, NAWA RAIPUR

Print